


Муниципальный этап Всероссийской олимпиады школьников

11.12 2023 г.

Сведения об участнике:

Фамилия Маршанкина
Имя Василиса
Отчество Денисовна
Класс обучения 8
Образовательная организация МСОУ СОШ с.Новицкое

Подпись участника 

ШИФР Участника: 05Ж-8-07

*Шифр заполняет координатор ВСОШ

ЗЧБ

ГОРОДСКАЯ ОЛИМПИАДА ШКОЛЬНИКОВ
ПО ОБЖ 2023–2024 уч. г.
МУНИЦИПАЛЬНЫЙ ЭТАП
7-8 классы

Уважаемый участник!

При выполнении заданий Вам предстоит выполнить определённую работу, которую лучше организовать следующим образом:

– внимательно прочитайте задание;
– если Вы отвечаете на теоретический вопрос или решаете ситуационную задачу, обдумайте и сформулируйте конкретный ответ (ответ должен быть кратким, и его содержание следует вписать в отведённое поле; пишите чётко и разборчиво);

– при ответе на тестовые задания определите верный ответ и обведите кружком букву (буквы), соответствующую(-ие) выбранному Вами ответу.

За каждый правильный ответ Вы можете получить определённое членами жюри количество баллов, не выше указанной максимальной оценки.

Сумма набранных баллов за все решённые вопросы в двух форматах – итог Вашей работы. Максимальное количество баллов – 100.

Задания считаются выполненными, если Вы вовремя сдали их членам жюри.

Желаем успеха!

Тестовые задания

Определите один правильный ответ.

1. Каким знаком обозначается пешеходная дорожка?

а)



б)



в)



г)



25

2. Какие из природных ЧС наиболее часты во Владивостоке?

а) бури, ураганы

б) засухи

в) тайфуны

г) оползни

25

3. Что запрещает изображенный знак безопасности?

а) оставлять животных

б) вход (проход) с собаками

в) выгул животных

г) вход (проход) с животными

25



4. Возможно ли провести заблаговременные эвакуационные мероприятия для обеспечения безопасности населения при землетрясении?

а) да

б) нет

в) только при своевременном мониторинге

г) только в условиях равнинной местности

25

5. На какое расстояние от пострадавшего желательно бросать спасательный круг?

а) 0,2–0,4 м

б) 0,5–1,5 м

в) 0,7–2 м

г) 2–2,5 м

25

6. Безопасно ли во время пожара в доме пользоваться лифтом?

а) нет

б) да

в) только вместе со взрослыми

г) только вместе с пожарными

25

7. Какой из противогазов предназначен для школьников?

- а) ПДФ-2Д
- б) ГП -5
- в) ГП -7
- г) ПДФ-Ш

об

8. Для обеспечения правильной рабочей позы за письменным столом высота сиденья стула должна быть равной

- а) длине голени
- б) длине голени плюс 2 см на высоту каблука
- в) длине голени минус 2 см на высоту каблука
- г) длине голени минус 10 см

об

9. Для первой степени термического ожога характерны следующие признаки:

- а) отёк, покраснение
- б) отёк, покраснение, появление пузырей, наполненных прозрачной жидкостью
- в) отёк, обугливание кожи с потерей чувствительности
- г) обугливание мышц и костей

об

10. Как называется вид помощи пострадавшему, оказываемый до медицинской помощи при несчастных случаях, травмах, отравлениях и других состояниях и заболеваниях, угрожающих жизни и здоровью пострадавшего?

- а) первая неотложная помощь
- б) доврачебная помощь
- в) первая помощь
- г) неотложная помощь

об

об

Определите все правильные ответы.

11. Какое значение имеет жёлтый мигающий сигнал светофора?

- а) разрешает движение и информирует о наличии нерегулируемого перекрёстка
- б) предупреждает об опасности
- в) запрещает движение
- г) разрешает движение
- д) разрешает движение и информирует, что время его действия истекает

12. По каким признакам днём в тихую погоду возможно определить мелкие места на реке?

- а) поверхность воды более светлая
- б) поверхность воды более тёмная
- в) поверхность воды имеет волнистый вид
- г) поверхность воды более ровная
- д) поверхность воды имеет тихое течение

13. Какое положение рук поможет обеспечить личную безопасность в толпе при давке?

- а) руки находятся возле бёдер
- б) руки находятся возле груди
- в) руки находятся в грудных карманах
- г) руки согнуты в кистях
- д) руки согнуты в локтях

14. Какие признаки могут указывать на возможность возникновения пурги?

- а) понижение температуры воздуха
- б) повышение температуры воздуха
- в) постепенное увеличение скорости ветра
- г) постепенное понижение скорости ветра

15. Где наиболее безопасно находиться во время грозы?

- а) на возвышенности
- б) у входа в пещеру
- в) среди невысоких деревьев с густыми кронами
- г) в сухой яме
- д) в скальной яме

16. Какие ЧС относятся к метеорологическим?

- а) заморозки
- б) бури
- в) цунами
- 05 г) магнитные бури
- д) падение метеоритов

17. Что является биологически опасным объектом?

- а) предприятия тяжёлого машиностроения
- б) целлюлозно-бумажные предприятия
- 25 в) фармацевтические предприятия
- г) предприятия цветной металлургии
- д) пищевые предприятия

18. В какие промежутки времени принятие световоздушных ванн является наиболее безопасным для здоровья человека в средней климатической зоне?

- а) 9.00 – 11.00
- 05 б) 11.00 – 14.00
- в) 14.00 – 17.00
- г) 17.00 – 19.00
- д) 19.00 – 22.00

19. Признаками ушиба и растяжения являются:

- а) боль, нарушение функции конечности
- 25 б) отёк и кровоизлияние
- в) боль, деформация конечности
- г) патологическая подвижность в месте травмы
- д) деформация конечности, кровоизлияние

20. Какие меры можно предпринять для уменьшения болезненности травмированной конечности при оказании первой помощи?

- а) приложить тепло
- 25 б) приложить холод
- в) создать покой конечности
- г) помассировать конечность
- д) дать обезболивающее средство

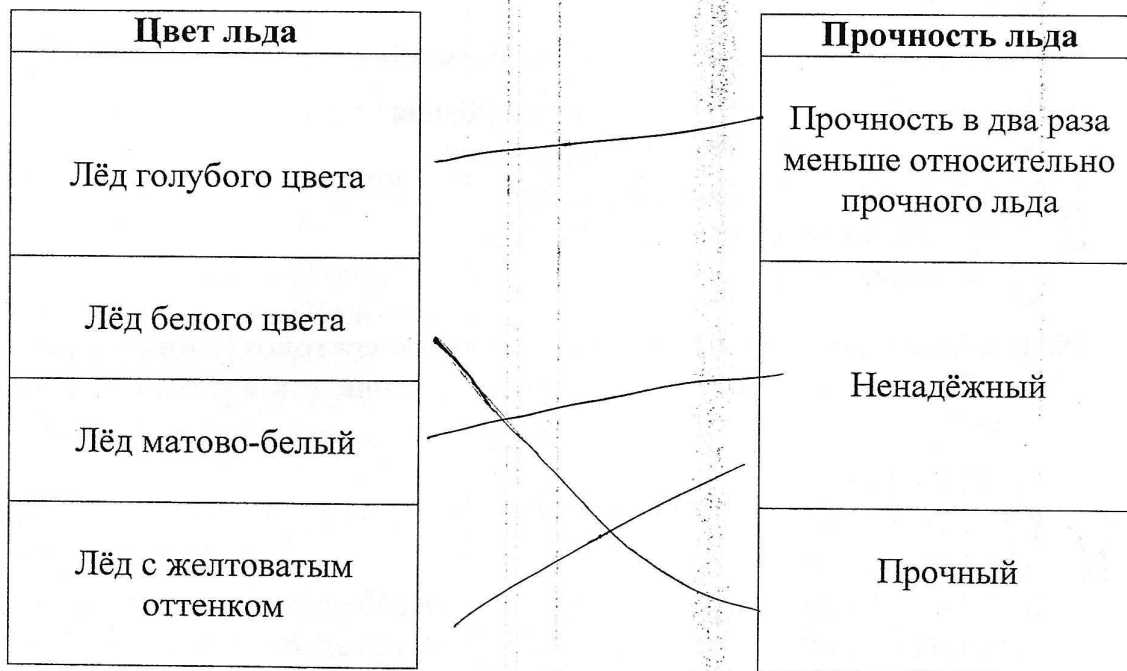
Максимум за задания 60 баллов.

105

Теоретические задания

Задание 1

Прочность льда можно определить визуально. Укажите стрелками соответствие между цветом льда и характеристикой его прочности.



25
25

Максимум за задание 10 баллов.

45

Задание 2

Регулировщик с помощью определённых сигналов регулирует дорожное движение.

Установите соответствие между сигналами регулировщика и их значением для водителя транспортного средства. Запишите в таблицу выбранные цифры под соответствующими буквами.

	Сигналы регулировщика
А	Руки вытянуты в стороны или опущены
Б	Правая рука вытянута вперед
В	Рука поднята вверх

	Значение для водителя транспортного средства
1	Со стороны груди и спины движение всех транспортных средств запрещено
2	Движение всех транспортных средств и пешеходов запрещено во всех направлениях
3	Со стороны левого бока разрешено движение безрельсовых транспортных средств во всех направлениях
4	Со стороны левого и правого бока разрешено движение безрельсовых транспортных средств прямо и направо
5	Со стороны груди всем транспортным средствам разрешено движение только направо

Ответ:

А	Б	В
2, 4	3, 5	1

Максимум за задание 10 баллов.

60

Задание 3

Основным способом временной остановки артериального кровотечения является наложение кровоостанавливающего жгута.

Ниже представлены признаки, которые появляются при правильном наложении жгута и которые могут появиться, если жгут наложен неправильно.

Впишите цифры, которыми обозначены признаки, в соответствующие графы таблицы.

Признаки:

- 1) остановка кровотечения
- 2) побледнение конечности
- 3) отёк конечности
- 4) усиление кровотечения
- 5) отсутствие пульса на артериях ниже наложенного жгута
- 6) посинение кожи конечности

Ответ:

Жгут наложен правильно	Жгут наложен неправильно
1, 5, 6	2, 3, 4
15 15	15 15

Максимум за задание 8 баллов.

45

8-04

685

ВСЕРОССИЙСКАЯ ОЛИМПИАДА ШКОЛЬНИКОВ ПО ОБЖ
2023–2024 уч. г.
МУНИЦИПАЛЬНЫЙ ЭТАП

7–8 классы

ФИО Маршанкина Василиса Денисовна

Класс 8

ОУ МКОУ СОШ с. Новиково

Маршрутная карта практического этапа

1. Средства индивидуальной защиты

№	Перечень ошибок и погрешностей	Штраф
1	При надевании противогаза не закрыты глаза	4 балла
2	При надевании противогаза продолжается дыхание	4 балла
3	После надевания противогаза не сделан полный выдох	4 балла
4	Допущено образование таких складок или перекосов, при которых наружный воздух может проникнуть под лицевую часть	10 баллов
5	Превышен норматив надевания из походного положения 10 секунд	За каждую секунду 2 балла
Оценка задания с учётом штрафных баллов 20 – <u>20</u> = <u>0</u>		Подпись судьи <u>Бучин</u> 20

2. Действия при обнаружении возгорания

2.1. Определяет необходимый тип огнетушителя

№	Перечень ошибок и погрешностей	Штраф
1	Выбран водный огнетушитель	10 баллов

2.2. Имитирует тушение возгорания


№	Перечень ошибок и погрешностей	Штраф
1	Не выдернута опломбированная чека	10 баллов
2	Расстояние до очага пожара менее 3 м	2 балла
3	Не нажата ручка запуска	3 балла ✓
Оценка задания с учётом штрафных баллов 10 – _____ = <u>3</u>		Подпись судьи <u>Монд</u> 7

2.3. Вызов спасательных служб

№	Перечень ошибок и погрешностей	Штраф
1	Не вызваны спасательные службы	10 баллов
2	Не указан адрес места происшествия	5 баллов
3	Не указано конкретно, что горит	5 баллов
Оценка задания с учётом штрафных баллов 10 – _____ = <u>5</u>		Подпись судьи <u>Монд</u> 5


3. Вязка узлов

№	Перечень ошибок и погрешностей	Штраф
1	Узел завязан неправильно (не завязан)	4 балла

2	Участник не уложился в общее время, отведенное на упражнение	20 баллов
Оценка задания с учётом штрафных баллов 20 - 4 = 16		Подпись судьи 


16

4. Неполная разборка автомата Калашникова

№	Перечень ошибок и погрешностей	Штраф
1	Контрольный спуск выполнен до отделения магазина, либо патрон был дослан в патронник	20 баллов
2	При контрольном спуске автомат направлен на людей	10 баллов
3	Нарушен порядок разборки (за каждый элемент)	2 балла
4	Автомат не разобран за 30 секунд	20 баллов
Оценка задания с учётом штрафных баллов 20 - 0 = 19,74 сек		Подпись судьи 

20

4.1. Сборка автомата Калашникова после неполной разборки

№	Перечень ошибок и погрешностей	Штраф
1	Спуск курка выполнен после присоединения магазина	20 баллов
2	При спуске курка автомат направлен на людей	10 баллов
3	Нарушен порядок сборки (за каждый элемент)	2 баллов
4	Автомат не собран за 40 секунд	20 баллов
Оценка задания с учётом штрафных баллов 20 - 20 = 0 1:00,68 сек		Подпись судьи 

0

Задание 4

Спасательный круг является предметом, увеличивающим плавучесть человека. Укажите порядок и особенности броска спасательного круга, в том числе с лодки.

Вариант ответа:

Максимум за задание 12 баллов.

Максимум за работу 100 баллов.

*председатель жюри:
Мамф-
Магильшова Е. А.*

Муниципальный этап Всероссийской олимпиады школьников

11.12 2023 г.

Сведения об участнике:

Фамилия Востокин

Имя Майвей

Отчество Евлевич

Класс обучения 8

Образовательная организация МКОУ ВОШ

с Заботой Детства

Подпись участника ооо

ШИФР Участника: 05Ж-08-08

*Шифр заполняет координатор ВСОШ

256.

ГОРОДСКАЯ ОЛИМПИАДА ШКОЛЬНИКОВ

ПО ОБЖ 2023–2024 уч. г.
МУНИЦИПАЛЬНЫЙ ЭТАП
7-8 классы

Уважаемый участник!

При выполнении заданий Вам предстоит выполнить определённую работу, которую лучше организовать следующим образом:

- внимательно прочитайте задание;
- если Вы отвечаете на теоретический вопрос или решаете ситуационную задачу, обдумайте и сформулируйте конкретный ответ (ответ должен быть кратким, и его содержание следует вписать в отведённое поле; пишите чётко и разборчиво);
- при ответе на тестовые задания определите верный ответ и обведите кружком букву (буквы), соответствующую(-ие) выбранному Вами ответу.

За каждый правильный ответ Вы можете получить определённое членами жюри количество баллов, не выше указанной максимальной оценки.

Сумма набранных баллов за все решённые вопросы в двух форматах – итог Вашей работы. Максимальное количество баллов – 100.

Задания считаются выполненными, если Вы вовремя сдали их членам жюри.

Желаем успеха!

Тестовые задания

Определите один правильный ответ.

1. Каким знаком обозначается пешеходная дорожка?

- а)  б)  в)  г) 

2. Какие из природных ЧС наиболее часты во Владивостоке?

- а) бури, ураганы
 б) засухи
 в) тайфуны
 г) оползни

3. Что запрещает изображенный знак безопасности?

- а) оставлять животных
 б) вход (проход) с собаками
 в) выгул животных
 г) вход (проход) с животными



4. Возможно ли провести заблаговременные эвакуационные мероприятия для обеспечения безопасности населения при землетрясении?

- а) да
 б) нет
 в) только при своевременном мониторинге
 г) только в условиях равнинной местности

5. На какое расстояние от пострадавшего желательно бросать спасательный круг?

- а) 0,2–0,4 м
 б) 0,5–1,5 м
 в) 0,7–2 м
 г) 2–2,5 м

6. Безопасно ли во время пожара в доме пользоваться лифтом?

- а) нет
 б) да
 в) только вместе со взрослыми
 г) только вместе с пожарными

7. Какой из противогазов предназначен для школьников?

- а) ПДФ-2Д
б) ГП -5
в) ГП -7
г) ПДФ-Ш

8. Для обеспечения правильной рабочей позы за письменным столом высота сиденья стула должна быть равной

- а) длине голени
б) длине голени плюс 2 см на высоту каблука
в) длине голени минус 2 см на высоту каблука
г) длине голени минус 10 см

9. Для первой степени термического ожога характерны следующие признаки:

- а) отёк, покраснение
б) отёк, покраснение, появление пузырей, наполненных прозрачной жидкостью
в) отёк, обугливание кожи с потерей чувствительности
г) обугливание мышц и костей

10. Как называется вид помощи пострадавшему, оказываемый до медицинской помощи при несчастных случаях, травмах, отравлениях и других состояниях и заболеваниях, угрожающих жизни и здоровью пострадавшего?

- а) первая неотложная помощь
б) доврачебная помощь
в) первая помощь
г) неотложная помощь

Определите все правильные ответы.

11. Какое значение имеет жёлтый мигающий сигнал светофора?

- а) разрешает движение и информирует о наличии нерегулируемого перекрёстка
- б) предупреждает об опасности
- в) запрещает движение
- г) разрешает движение
- д) разрешает движение и информирует, что время его действия истекает

12. По каким признакам днём в тихую погоду возможно определить мелкие места на реке?

- а) поверхность воды более светлая
- б) поверхность воды более тёмная
- в) поверхность воды имеет волнистый вид
- г) поверхность воды более ровная
- д) поверхность воды имеет тихое течение

13. Какое положение рук поможет обеспечить личную безопасность в толпе при давке?

- а) руки находятся возле бёдер
- б) руки находятся возле груди
- в) руки находятся в грудных карманах
- г) руки согнуты в кистях
- д) руки согнуты в локтях

14. Какие признаки могут указывать на возможность возникновения пурги?

- а) понижение температуры воздуха
- б) повышение температуры воздуха
- в) постепенное увеличение скорости ветра
- г) постепенное понижение скорости ветра

15. Где наиболее безопасно находиться во время грозы?

- а) на возвышенности
- б) у входа в пещеру
- в) среди невысоких деревьев с густыми кронами
- г) в сухой яме
- д) в скальной яме

16. Какие ЧС относятся к метеорологическим?

- а) заморозки
б) бури
в) цунами
г) магнитные бури
д) падение метеоритов

17. Что является биологически опасным объектом?

- а) предприятия тяжёлого машиностроения
б) целлюлозно-бумажные предприятия
в) фармацевтические предприятия
г) предприятия цветной металлургии
д) пищевые предприятия

18. В какие промежутки времени принятие световоздушных ванн является наиболее безопасным для здоровья человека в средней климатической зоне?

- а) 9.00 – 11.00
б) 11.00 – 14.00
в) 14.00 – 17.00
г) 17.00 – 19.00
д) 19.00 – 22.00

19. Признаками ушиба и растяжения являются:

- а) боль, нарушение функции конечности
б) отёк и кровоизлияние
в) боль, деформация конечности
г) патологическая подвижность в месте травмы
д) деформация конечности, кровоизлияние

20. Какие меры можно предпринять для уменьшения болезненности травмированной конечности при оказании первой помощи?

- а) приложить тепло
б) приложить холод
в) создать покой конечности
г) помассировать конечность
д) дать обезболивающее средство

Максимум за задания 60 баллов.

Теоретические задания

Задание 1

Прочность льда можно определить визуально. Укажите стрелками соответствие между цветом льда и характеристикой его прочности.



Максимум за задание 10 баллов.

25.

Задание 2

Регулировщик с помощью определённых сигналов регулирует дорожное движение.

Установите соответствие между сигналами регулировщика и их значением для водителя транспортного средства. Запишите в таблицу выбранные цифры под соответствующими буквами.

Сигналы регулировщика		Значение для водителя транспортного средства	
А	Руки вытянуты в стороны или опущены	1	Со стороны груди и спины движение всех транспортных средств запрещено
Б	Правая рука вытянута вперед	2	Движение всех транспортных средств и пешеходов запрещено во всех направлениях
В	Рука поднята вверх	3	Со стороны левого бока разрешено движение безрельсовых транспортных средств во всех направлениях
		4	Со стороны левого и правого бока разрешено движение безрельсовых транспортных средств прямо и направо
		5	Со стороны груди всем транспортным средствам разрешено движение только направо

Ответ:

А	Б	В
5 4	4 5 ✓	2

65.

Максимум за задание 10 баллов.

Задание 3

Основным способом временной остановки артериального кровотечения является наложение кровоостанавливающего жгута.

Ниже представлены признаки, которые появляются при правильном наложении жгута и которые могут появиться, если жгут наложен неправильно.

Впишите цифры, которыми обозначены признаки, в соответствующие графы таблицы.

Признаки:

- 1) остановка кровотечения
- 2) побледнение конечности
- 3) отёк конечности
- 4) усиление кровотечения
- 5) отсутствие пульса на артерии ниже наложенного жгута
- 6) посинение кожи конечности

Ответ:

Жгут наложен правильно	Жгут наложен неправильно
1	3
2	6
5	4

Максимум за задание 8 баллов.

50.

8-08

925

ВСЕРОССИЙСКАЯ ОЛИМПИАДА ШКОЛЬНИКОВ ПО ОБЖ
2023–2024 уч. г.
МУНИЦИПАЛЬНЫЙ ЭТАП

7–8 классы

ФИО Обухович Майей Евгеньевич

Класс 8

ОУ НКОУ ООШ с. Заровья Дашно

Маршрутная карта практического этапа

1. Средства индивидуальной защиты

№	Перечень ошибок и погрешностей	Штраф
1	При надевании противогаза не закрыты глаза	4 балла
2	При надевании противогаза продолжается дыхание	4 балла
3	После надевания противогаза не сделан полный выдох	4 балла
4	Допущено образование таких складок или перекосов, при которых наружный воздух может проникнуть под лицевую часть	10 баллов
5	Превышен норматив надевания из походного положения 10 секунд	За каждую секунду 2 балла
Оценка задания с учётом штрафных баллов 20 – <u>0</u> = 20		Подпись судьи <i>Бучин</i> 20

2. Действия при обнаружении возгорания

2.1. Определяет необходимый тип огнетушителя

№	Перечень ошибок и погрешностей	Штраф
1	Выбран водный огнетушитель	10 баллов

2.2. Имитирует тушение возгорания


№	Перечень ошибок и погрешностей	Штраф
1	Не выдернута опломбированная чека	10 баллов
2	Расстояние до очага пожара менее 3 м	2 балла
3	Не нажата ручка запуска	3 балла
Оценка задания с учётом штрафных баллов 10 – <u>0</u> = 10		Подпись судьи <i>Бучин</i> 10

2.3. Вызов спасательных служб

№	Перечень ошибок и погрешностей	Штраф
1	Не вызваны спасательные службы	10 баллов
2	Не указан адрес места происшествия	5 баллов
3	Не указано конкретно, что горит	5 баллов
Оценка задания с учётом штрафных баллов 10 – <u>0</u> = 10		Подпись судьи <i>Бучин</i> 10


3. Вязка узлов

№	Перечень ошибок и погрешностей	Штраф
1	Узел завязан неправильно (не завязан) ✓	4 балла

2	Участник не уложился в общее время, отведенное на упражнение	20 баллов
Оценка задания с учётом штрафных баллов 20 - 4 = 16		Подпись судьи 


16

4. Неполная разборка автомата Калашникова

№	Перечень ошибок и погрешностей	Штраф
1	Контрольный спуск выполнен до отделения магазина, либо патрон был дослан в патронник	20 баллов
2	При контрольном спуске автомат направлен на людей	10 баллов
3	Нарушен порядок разборки (за каждый элемент)	2 балла
4	Автомат не разобран за 30 секунд	20 баллов
Оценка задания с учётом штрафных баллов 20 - 0 = (19.82 сек)		Подпись судьи 

20

4.1. Сборка автомата Калашникова после неполной разборки

№	Перечень ошибок и погрешностей	Штраф
1	Спуск курка выполнен после присоединения магазина	20 баллов
2	При спуске курка автомат направлен на людей	10 баллов
3	Нарушен порядок сборки (за каждый элемент) ✓✓	2 баллов
4	Автомат не собран за 40 секунд	20 баллов
Оценка задания с учётом штрафных баллов 20 - 4 = 16 40,00 сек		Подпись судьи 

16

925

Муниципальный этап Всероссийской олимпиады школьников

11.12 2023 г.

Сведения об участнике:

Фамилия Карим
Имя Данил
Отчество Александрович
Класс обучения 11
Образовательная организация ШКОУСОШ с. Ви-Александровское

Подпись участника ДК

ШИФР Участника: 05Ж-11-02

*Шифр заполняет координатор ВСОШ

465

ВСЕРОССИЙСКАЯ ОЛИМПИАДА ШКОЛЬНИКОВ

ПО ОБЖ 2023–2024 уч. г.

МУНИЦИПАЛЬНЫЙ ЭТАП

10–11 классы

Уважаемый участник!

При выполнении заданий Вам предстоит выполнить определённую работу, которую лучше организовать следующим образом:

- внимательно прочитайте задание;
- если Вы отвечаете на теоретический вопрос или решаете ситуационную задачу, обдумайте и сформулируйте конкретный ответ (ответ должен быть кратким, и его содержание следует вписать в отведённое поле, пишите чётко и разборчиво);
- при ответе на тесты определите верный ответ, обведите кружком букву (буквы), соответствующую(-не) выбранному Вами ответу.

За каждый правильный ответ Вы можете получить определённое членами жюри количество баллов, не выше указанной максимальной оценки.

Сумма набранных баллов за все решённые вопросы в двух форматах – итог Вашей работы. Максимальное количество баллов – 100.

Задания считаются выполненными, если Вы вовремя сдали их членам жюри.

Желаем успеха!

Всероссийская олимпиада школьников по ОБЖ. 2023–2024 уч. г.
Муниципальный этап. 10–11 классы.

20. Укажите приёмы восстановления проходимости дыхательных путей:

- а) приподнимание головы
- б) запрокидывание головы
- в) выдвижение нижней челюсти
- г) использование лицевой маски
- д) использование пластиковой плёнки с клапаном одностороннего движения воздуха

Таблица ответов на тестовые задания теоретического тура

Номер задания	Верный ответ	Номер задания	Верный ответ
1	б 20	11	а з 40
2	а 20	12	а з а 00
3	б 20	13	а б в з 00
4	а 00	14	а б в 20
5	а 20	15	а б в з 00
6	б 20	16	б 20
7	а 20	17	а г б в 00
8	з 10	18	б г б а 00
9	а 00	19	а б в 00
10	б 00	20	а б г 00






Максимум за задания 60 баллов.

200

Всероссийская олимпиада школьников по ОБЖ. 2023–2024 уч. г.
Муниципальный этап. 10–11 классы.

Теоретические задания

1. Укажите стрелками соответствие между знаками и их названиями.

		Внимание. Электромагнитное поле.	2
		Запрещается разбрызгивать воду.	2
		Запрещается использовать в качестве питьевой воды.	2
		Осторожно. Вредные для здоровья аллергические (раздражающие) вещества.	2
		Осторожно. Биологическая опасность (Инфекционные вещества).	2
		Внимание. Магнитное поле.	2

Максимум за задание 12 баллов.

125

Всероссийская олимпиада школьников по ОБЖ. 2023–2024 уч. г.
Муниципальный этап. 10–11 классы.

2. Укажите знаком «+» в крайнем левом или крайнем правом столбце, какие из перечисленных характеристик относятся к манёвру силами воинского подразделения, а какие к манёвру средствами воинского подразделения.

Ответ		Вид манёвра	Ответ	
	Манёвр силами		Манёвр средствами	
2	+	сосредоточение огня		+
		обход		
25	+	распределение огня		+
		охват		
	-	перенос огня		

Максимум за задание 10 баллов.

3. Вывихи – стойкое изменение правильных анатомических взаимоотношений (конгруэнтности) суставных поверхностей, сопровождающееся нарушением функции поражённого сустава.

Для вывиха характерны определённые признаки, которые можно разделить на достоверные и косвенные (вероятные) признаки.

Запишите цифры нижеперечисленных признаков вывиха в соответствующие графы таблицы.

Признаки вывиха:

- а) отёк;
- б) деформация конечности в области сустава;
- в) боль;
- г) нарушение функции конечности;
- д) изменение длины конечности;
- е) вынужденное положение конечности;
- ё) пружинящее сопротивление при пассивных движениях;
- ж) кровоизлияние.

Достоверные признаки	Косвенные признаки
2	а а 1
б б 1	в
г г 1	д б 1
е е 1	ж 1

Максимум за задание 8 баллов.

4. Опишите свои действия, если Ваш дом (квартира) оказался вблизи эпицентра взрыва при совершении террористического акта.

Максимум за задание 10 баллов. Максимум за работу 100 баллов

Общ-11-02

Управление по делам гражданской обороны, чрезвычайным ситуациям и ликвидации последствий стихийных бедствий
"Управление по делам гражданской обороны, чрезвычайным ситуациям и ликвидации последствий стихийных бедствий"
Портландцементный завод № 2
№ _____
"___" _____ г.
602600, с. Владыкино-Александровское
ул. Космонавтов, 60, тел: 214-111

- 4) 1. позвонить в службу спасения
2. устремля вниз уровня земли (подвал; погреб)
3. Забаррикадироваться
4. закрыть герметиком от окон.

об

председатель
информ.
Мамышев -
Мамышевская С. А.

11-02

109

ВСЕРОССИЙСКАЯ ОЛИМПИАДА ШКОЛЬНИКОВ
 ПО ОБЖ 2023–2024 уч. г.
 МУНИЦИПАЛЬНЫЙ ЭТАП
 10–11 классы

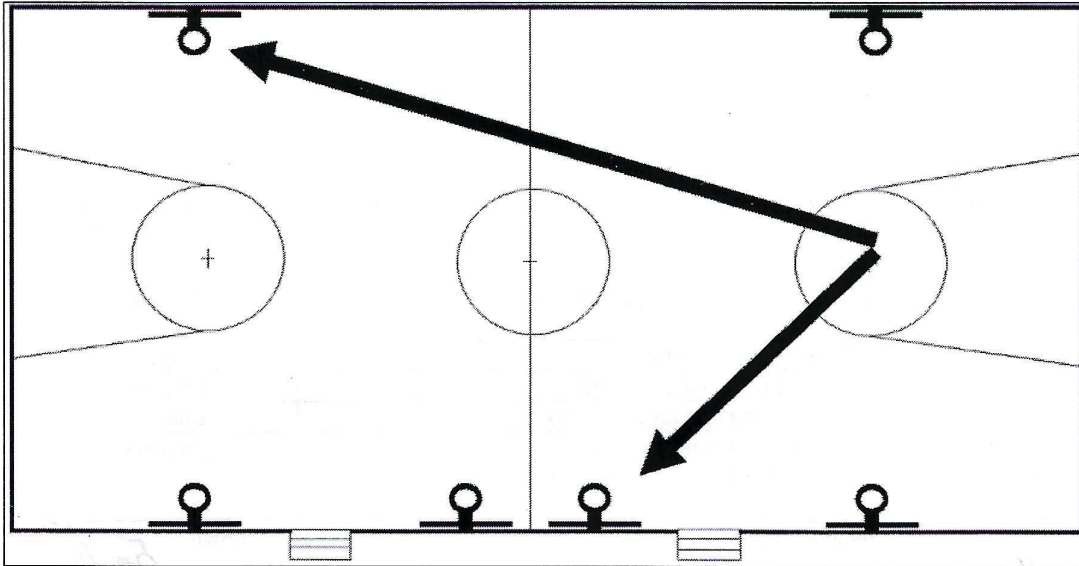
Маршрутная карта практического этапа

ФИО Карпин Даниил Александрович

Класс 11

ОУ ШКОУ СОШ с. Выхино-Андреевское

1. Ориентирование на местности



№	Перечень ошибок и погрешностей	Штраф
1	Ошибка от 1 до 5 градусов	по 5 баллов
2	Ошибка более 5 градусов	10 баллов
Оценка задания с учётом штрафных баллов 20 - _____ = 0		Подпись судьи <i>[Signature]</i>

20.

2. Оказание первой помощи

2.1. Оказание первой помощи пострадавшему в состоянии клинической смерти

№	Перечень ошибок и погрешностей	Штраф
1	Не проверена реакция зрачка	20 баллов
2	Не проверен пульс на сонной артерии либо время проверки составило менее 5 секунд	10 баллов
3	Перелом каждого ребра при проведении НМС	2 балла
4	Перелом 6-ти рёбер	20 баллов
5	Не освобождена грудная клетка от одежды	5 баллов
6	Прекардиальный удар нанесён поперёк грудины	5 баллов ✓
7	Прекардиальный удар нанесён по мечевидному отростку	20 баллов ✓
8	В течение 2-х минут не появилась реакция зрачков на свет	20 баллов
Оценка задания с учётом штрафных баллов 20 - 5 = 15		Подпись судьи <i>[Signature]</i>

5

2.2. Оказание первой помощи пострадавшему с симптомами общего переохлаждения

№	Перечень ошибок и погрешностей	Штраф
1	Не выбрано спасательное покрывало	10 баллов
2	Пострадавший укрыт изотермическим спасательным покрывалом неправильно (серебристым напылением наружу)	10 баллов
Оценка задания с учётом штрафных баллов 10 - <u>0</u> = <u>0</u>		Подпись судьи <i>Монд</i> 10

2.3. Вызов спасательных служб

№	Перечень ошибок и погрешностей	Штраф
1	Не вызваны спасательные службы	10 баллов
2	Не указан адрес места происшествия	5 баллов
3	Не указано число пострадавших	5 баллов
Оценка задания с учётом штрафных баллов 10 - <u>0</u> = <u>0</u>		Подпись судьи <i>Монд</i> 10

3. Средства индивидуальной защиты

№	Перечень ошибок и погрешностей	Штраф
1	При надевании противогаза не закрыты глаза	2 балла
2	При надевании противогаза продолжается дыхание	2 балла
3	После надевания противогаза не сделан полный выдох	2 балла
4	Допущено образование таких складок или перекосов, при которых наружный воздух может проникнуть под лицевую часть	5 баллов
Оценка задания с учётом штрафных баллов 10 - <u>0</u> = <u>10</u>		Подпись судьи <i>Бурд</i> 10

4. Неполная разборка автомата Калашникова

№	Перечень ошибок и погрешностей	Штраф
1	Контрольный спуск выполнен до отделения магазина, либо патрон дослан в патронник	20 баллов
2	При контрольном спуске автомат направлен на людей	10 баллов
3	Нарушен порядок разборки (за каждый элемент)	2 балла
4	Автомат не разобран за 25 секунд	20 баллов
Оценка задания с учётом штрафных баллов 20 - <u>4</u> = <u>24,85</u>		Подпись судьи <i>Монд</i> 16

5. Сборка автомата Калашникова после неполной разборки

№	Перечень ошибок и погрешностей	Штраф
1	Спуск курка выполнен после присоединения магазина	20 баллов
2	При спуске курка автомат направлен на людей	10 баллов
3	Нарушен порядок сборки (за каждый элемент)	2 балла
4	Автомат не собран за 35 секунд	20 баллов
Оценка задания с учётом штрафных баллов 20 - <u>2</u> = <u>34,87</u>		Подпись судьи <i>Монд</i> 18

6. Выбор оружия в соответствии с заданием

№	Перечень ошибок и погрешностей	Штраф
1	Ошибка в выборе оружия	5 баллов
Оценка задания с учётом штрафных баллов 20 - <u>0,5</u> = <u>19,5</u>		Подпись судьи <i>Монд</i> 20

Сумма штрафных баллов: _____

баллов

Общий результат: _____

109

Муниципальный этап Всероссийской олимпиады школьников

11.12 2023 г.

Сведения об участнике:

Фамилия Карташев

Имя Илья

Отчество Антонович

Класс обучения 11

Образовательная организация МКОУ СОШ п. Николаевка

Подпись участника 

ШИФР Участника: ОБЖ-11-03

*Шифр заполняет координатор ВСОШ