

ОБЖ-10-03

525

ВСЕРОССИЙСКАЯ ОЛИМПИАДА ШКОЛЬНИКОВ

ПО ОБЖ 2023–2024 уч. г.

МУНИЦИПАЛЬНЫЙ ЭТАП

10–11 классы

**Уважаемый участник!**

При выполнении заданий Вам предстоит выполнить определённую работу, которую лучше организовать следующим образом:

- внимательно прочитайте задание;
- если Вы отвечаете на теоретический вопрос или решаете ситуационную задачу, обдумайте и сформулируйте конкретный ответ (ответ должен быть кратким, и его содержание следует вписать в отведённое поле, пишите чётко и разборчиво);
- при ответе на тесты определите верный ответ, обведите кружком букву (буквы), соответствующую(-не) выбранному Вами ответу.

За каждый правильный ответ Вы можете получить определённое членами жюри количество баллов, не выше указанной максимальной оценки.

Сумма набранных баллов за все решённые вопросы в двух форматах – итог Вашей работы. Максимальное количество баллов – 100.

Задания считаются выполненными, если Вы вовремя сдали их членам жюри.

**Желаем успеха!**

Всероссийская олимпиада школьников по ОБЖ. 2023–2024 уч. г.  
Муниципальный этап. 10–11 классы.

20. Укажите приёмы восстановления проходимости дыхательных путей:

- а) приподнимание головы  
 б) запрокидывание головы  
 в) выдвижение нижней челюсти  
 г) использование лицевой маски  
 д) использование пластиковой плёнки с клапаном одностороннего движения воздуха

Таблица ответов на тестовые задания теоретического тура

Номер задания	Верный ответ	Номер задания	Верный ответ
1	б 25	11	а г 45
2	а 25	12	г г 25
3	б 25	13	а б в г г 05
4	а 05	14	а в г 05
5	а 25	15	а б в г г 05
6	в 25	16	а в г 05
7	а 25	17	а б г 05
8	б 05	18	б в г 05
9	б 25	19	а в 25
10	г 05	20	б в 45

Максимум за задания 60 баллов.

265

Всероссийская олимпиада школьников по ОБЖ. 2023–2024 уч. г.  
Муниципальный этап. 10–11 классы.

**Теоретические задания**

1. Укажите стрелками соответствие между знаками и их названиями.

		Внимание. Электромагнитное поле.
		Запрещается разбрызгивать воду.
		Запрещается использовать в качестве питьевой воды.
		Осторожно. Вредные для здоровья аллергические (раздражающие) вещества.
		Осторожно. Биологическая опасность (Инфекционные вещества).
		Внимание. Магнитное поле.

125

Максимум за задание 12 баллов.

Всероссийская олимпиада школьников по ОБЖ. 2023–2024 уч. г.  
Муниципальный этап. 10–11 классы.

2. Укажите знаком «+» в крайнем левом или крайнем правом столбце, какие из перечисленных характеристик относятся к манёвру силами воинского подразделения, а какие к манёвру средствами воинского подразделения.

Ответ		Вид манёвра	Ответ	
			сосредоточение огня	
25	+	обход		
		распределение огня		+
25	+	охват		
	+	перенос огня		

Максимум за задание 10 баллов.

3. Вывихи – стойкое изменение правильных анатомических взаимоотношений (конгруэнтности) суставных поверхностей, сопровождающееся нарушением функции поражённого сустава.

Для вывиха характерны определённые признаки, которые можно разделить на достоверные и косвенные (вероятные) признаки.

Запишите цифры нижеперечисленных признаков вывиха в соответствующие графы таблицы.

**Признаки вывиха:**

- а) отёк;
- б) деформация конечности в области сустава;
- в) боль;
- г) нарушение функции конечности;
- д) изменение длины конечности;
- е) вынужденное положение конечности;
- ё) пружинящее сопротивление при пассивных движениях;
- ж) кровоизлияние.

Достоверные признаки		Косвенные признаки	
15	б	а	15
	в	б	15
	г	г	15
15	ё	ж	15

Максимум за задание 8 баллов.

4. Опишите свои действия, если Ваш дом (квартира) оказался вблизи эпицентра взрыва при совершении террористического акта.

Максимум за задание 10 баллов. Максимум за работу 100 баллов

ОБ № - 10 - 03

Теоретическое задание  
№4

1. Забрать документы
2. Позвонить в службу спасения
3. Назвать место, время, что случилось
4. Ити в безопасное место: позвать убежище. Если в квартире, то спрятаться в ванной забаррикадироваться.
5. Ждать спасения.

об

председатель  
юрид.  
Монд  
Мацельшова Е.А.

10-03.

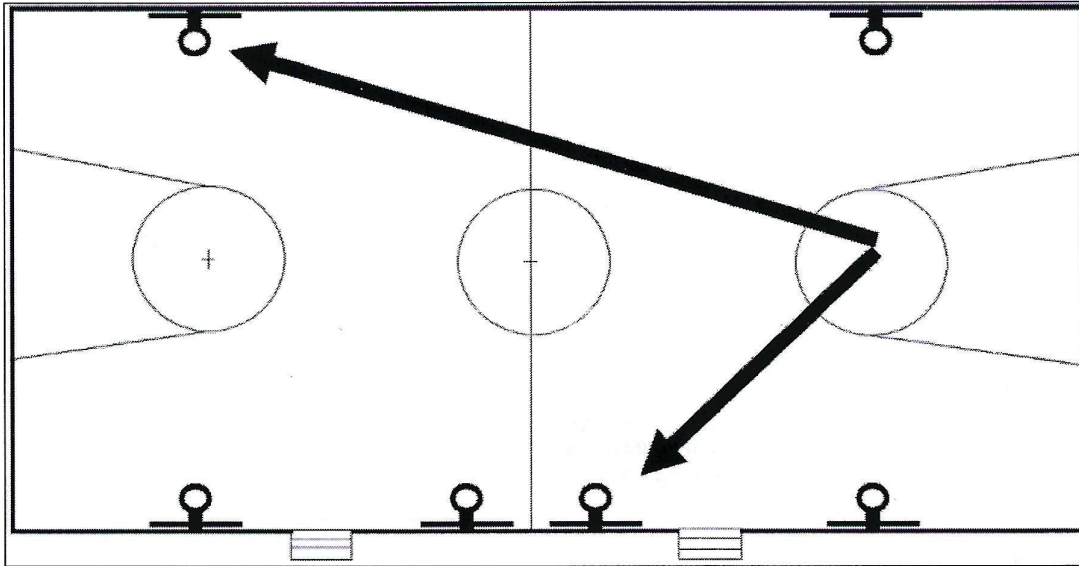
835

**ВСЕРОССИЙСКАЯ ОЛИМПИАДА ШКОЛЬНИКОВ**  
 ПО ОБЖ 2023–2024 уч. г.  
 МУНИЦИПАЛЬНЫЙ ЭТАП  
 10–11 классы

**Маршрутная карта практического этапа**

ФИО Комаров Александр  
 Класс 10  
 ОУ МКОУ СОШ с. Вязки Миротекстовское

**1. Ориентирование на местности**



№	Перечень ошибок и погрешностей	Штраф
1	Ошибка от 1 до 5 градусов	по 5 баллов
2	Ошибка более 5 градусов	10 баллов
Оценка задания с учётом штрафных баллов 20 - <u>0</u> =		Подпись судьи <u>[Signature]</u>

20

**2. Оказание первой помощи**

**2.1. Оказание первой помощи пострадавшему в состоянии клинической смерти**

№	Перечень ошибок и погрешностей	Штраф
1	Не проверена реакция зрачка	20 баллов
2	Не проверен пульс на сонной артерии либо время проверки составило менее 5 секунд	10 баллов
3	Перелом каждого ребра при проведении НМС	<del>2 балла</del>
4	Перелом 6-ти рёбер	<del>20 баллов</del>
5	Не освобождена грудная клетка от одежды	5 баллов
6	Прекардиальный удар нанесён поперёк грудины	5 баллов ✓
7	Прекардиальный удар нанесён по мечевидному отростку	20 баллов ✓
8	В течение 2-х минут не появилась реакция зрачков на свет	20 баллов ✓
Оценка задания с учётом штрафных баллов 20 - <u>15</u> =		Подпись судьи <u>[Signature]</u>

5

**2.2. Оказание первой помощи пострадавшему с симптомами общего переохлаждения**

№	Перечень ошибок и погрешностей	Штраф
1	Не выбрано спасательное покрывало	10 баллов
2	Пострадавший укрыт изотермическим спасательным покрывалом неправильно (серебристым напылением наружу)	10 баллов
Оценка задания с учётом штрафных баллов 10 - 0 = 0		Подпись судьи <i>Монды</i>

10

**2.3. Вызов спасательных служб**

№	Перечень ошибок и погрешностей	Штраф
1	Не вызваны спасательные службы	10 баллов
2	Не указан адрес места происшествия	5 баллов
3	Не указано число пострадавших	5 баллов
Оценка задания с учётом штрафных баллов 10 - 0 = 10		Подпись судьи <i>Бугафф Монды</i>

10

**3. Средства индивидуальной защиты**

№	Перечень ошибок и погрешностей	Штраф
1	При надевании противогаза не закрыты глаза	2 балла
2	При надевании противогаза продолжается дыхание	2 балла
3	После надевания противогаза не сделан полный выдох	2 балла
4	Допущено образование таких складок или перекосов, при которых наружный воздух может проникнуть под лицевую часть	5 баллов
Оценка задания с учётом штрафных баллов 10 - 0 = 10		Подпись судьи <i>Бугафф</i>

10

**4. Неполная разборка автомата Калашникова**

№	Перечень ошибок и погрешностей	Штраф
1	Контрольный спуск выполнен до отделения магазина, либо патрон дослан в патронник	20 баллов
2	При контрольном спуске автомат направлен на людей	10 баллов
3	Нарушен порядок разборки (за каждый элемент)	2 балла
4	Автомат не разобран за 25 секунд	20 баллов
Оценка задания с учётом штрафных баллов 20 - 2 = 25.00		Подпись судьи <i>Монды</i>

18

**5. Сборка автомата Калашникова после неполной разборки**

№	Перечень ошибок и погрешностей	Штраф
1	Спуск курка выполнен после присоединения магазина	20 баллов
2	При спуске курка автомат направлен на людей	10 баллов
3	Нарушен порядок сборки (за каждый элемент)	2 балла
4	Автомат не собран за 35 секунд	20 баллов
Оценка задания с учётом штрафных баллов 20 - 20 = 49.26		Подпись судьи <i>Монды</i>

0

**6. Выбор оружия в соответствии с заданием**

№	Перечень ошибок и погрешностей	Штраф
1	Ошибка в выборе оружия	5 баллов
Оценка задания с учётом штрафных баллов 20 - 10 = 10.00		Подпись судьи <i>Монды</i>

10

Сумма штрафных баллов: \_\_\_\_\_

баллов

Общий результат: \_\_\_\_\_

Муниципальный этап Всероссийской олимпиады школьников

11.12 2023 г.

Сведения об участнике:

Фамилия Мурзин  
Имя Владимир  
Отчество Сергеевич  
Класс обучения 9  
Образовательная организация МКОУ СОШ с. Сергеевка

Подпись участника 

ШИФР Участника: РБЖ-9-09  
\*Шифр заполняет координатор ВСОШ



265

110) только при наличии ружейки, обозначающей искомой переход

216 25

312) путь неслучайно закрыт 25

412) против враждебного действия, глубинный обзор

71) а) личность, в которой он являет себя, которую он ищет, материальную из которой состоит дом.

61) а) зрительное, слуховое, осязательное, нейтральное.

71) б) 250 метров.

81) а) частота простудных заболеваний в течение одного года

91) а) положение воздуха в проветриваемом помещении (воздушная среда)

101) а) отсутствие сознания более 3-4 минут.

110) а) замедленное движение.

121) а) ряд с устройством прямой связи с Москвой.

131) а) движение всех трех парных средств запрещено

141) б) рентгеновский, звуковой  
2) электромагнитное, тепловое  
3) звуковое, осязательное.

151) а) территориальный, местный, объёмный.

161) а) режим суровой готовности  
б) режим повсеместной готовности  
2) режим ЧС  
3) режим постоянной готовности.

171) а) перегруженность - единственное средство любой работы  
б) перегруженность не успеет поле  
2) перегруженность

0 18/01/2  
4 20/01/2  
2 20/01/9 26

ТР.

1) По поводу стучающих в соседней комнате они вызвали ~~службу~~  
МЧС и мне вкратце рассказали. 05  
2)

председатель жюри:  
Магилшикова С.А  
Монд

9-09-

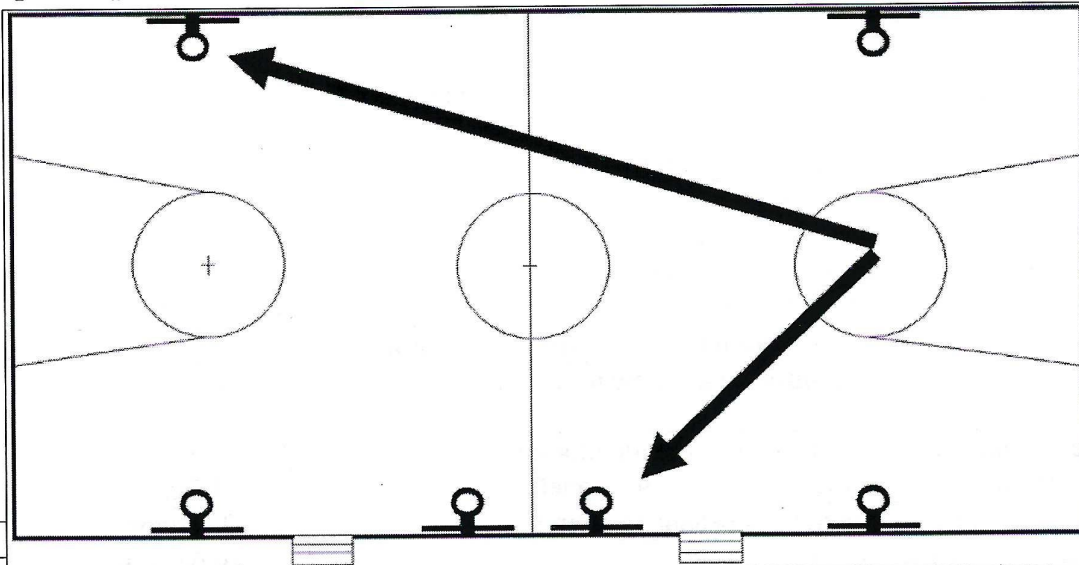
908.

ВСЕРОССИЙСКАЯ ОЛИМПИАДА ШКОЛЬНИКОВ  
 ПО ОБЖ 2023–2024 уч. г.  
 МУНИЦИПАЛЬНЫЙ ЭТАП  
 9 классы

**Маршрутная карта практического этапа**

ФИО Мухомов Валерий Геннадьевич  
 Класс 9А  
 ОУ МКОУ сош. с. Сергеевка

**1. Ориентирование на местности**



№		
1	Ошибка от 1 до 5 градусов	по 5 баллов
2	Ошибка более 5 градусов	10 баллов
Оценка задания с учётом штрафных баллов		Подпись
20 – _____ =		судьи <u>[Signature]</u>

10

10


**2. Подача бросательного конца пострадавшему.**

№	Перечень ошибок и погрешностей	Штраф
1	Непопадание с первой попытки	5 баллов
2	Непопадание с двух попыток	20 баллов
3	После попадания коренной конец выпущен из руки (утерян)	2 балла
Оценка задания с учётом штрафных баллов		Подпись
20 – _____ =		судьи <u>[Signature]</u>

0


20

### 3. Вязка узлов

№	Перечень ошибок и погрешностей	Штраф
1	Узел завязан неправильно (не завязан)	4 балла
2	Участник не уложился в общее время, отведенное на упражнение	20 баллов
Оценка задания с учётом штрафных баллов 20 - 0 = 20		Подпись судьи 

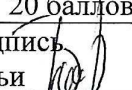
20

### 4. Неполная разборка автомата Калашникова

№	Перечень ошибок и погрешностей	Штраф
1	Контрольный спуск выполнен до отделения магазина, либо патрон был дослан в патронник	20 баллов
2	При контрольном спуске автомат направлен на людей	10 баллов
3	Нарушен порядок разборки (за каждый элемент)	2 балла
4	Автомат не разобран за 30 секунд	20 баллов
Оценка задания с учётом штрафных баллов 20 - 0 = 15.07 сек		Подпись судьи 

20

### 5. Сборка автомата Калашникова после неполной разборки

№	Перечень ошибок и погрешностей	Штраф
1	Спуск курка выполнен после присоединения магазина	20 баллов
2	При спуске курка автомат направлен на людей	10 баллов
3	Нарушен порядок сборки (за каждый элемент)	2 баллов
4	Автомат не собран за 40 секунд	20 баллов
Оценка задания с учётом штрафных баллов 20 - 0 = 25.85 сек		Подпись судьи 

20

Сумма штрафных баллов: \_\_\_\_\_ баллов

Общий результат: \_\_\_\_\_ 90  
баллов

Муниципальный этап Всероссийской олимпиады школьников

11.12 2023 г.

Сведения об участнике:

Фамилия Скоплетий

Имя Степан

Отчество Александрович

Класс обучения 9

Образовательная организация МБОУ СОШ с. Своячиновка

Подпись участника Скоп

ШИФР Участника: 05Ж-9-15

\*Шифр заполняет координатор ВСОШ

ОБЖ-9-25

406

ВСЕРОССИЙСКАЯ ОЛИМПИАДА  
ШКОЛЬНИКОВ ПО ОБЖ 2023-2024 уч. г.  
МУНИЦИПАЛЬНЫЙ ЭТАП 9 класс

*Уважаемый участник !*

При выполнении заданий Вам предстоит выполнить определённую работу, которую лучше организовать следующим образом:

- внимательно прочитайте задание;
- если Вы отвечаете на теоретический вопрос или решаете ситуационную задачу, обдумайте и сформулируйте конкретный ответ (ответ должен быть кратким, его содержание требуется вписать в отведённое поле, писать следует чётко и разборчиво);
- при ответе на тесты определите верный ответ и обведите кружком, букву (буквы), соответствующую (-ие) выбранному Вами ответу.

За каждый правильный ответ Вы можете получить определённое членами жюри количество баллов, не выше указанной максимальной оценки.

Сумма набранных баллов за все решённые вопросы в двух форматах - итог Вашей работы. Максимальное количество баллов - 100.

Задания считаются выполненными, если Вы вовремя сдали их членам жюри.

*Желаем успеха !*

ОБЖ-9-15

**Тестовые задания**

Определите **один** правильный ответ.  
За правильный ответ начисляется 2 балла.

1. В каком случае допускается переходить проезжую часть между противоположными углами регулируемого перекрёстка (по диагонали)?

25

- а) только при наличии разметки, обозначающей такой пешеходный переход
- б) только при наличии сигналов регулировщика, разрешающих такой переход
- в) только при наличии сигналов светофора разрешающий такой переход
- г) только при наличии хорошей видимости во все стороны перекрёстка

05 2.

а)



б)



в)



г)



ы

3. Вы подошли к перекрёстку, где проводится движение по сигналам регулировщика. Укажите, какой сигнал показывает регулировщик, если он обращён к Вам грудью, а его руки опущены.

25

- а) внимание пешеходы
- б) движение запрещено
- в) навстречу транспорту движение запрещено
- г) путь пешеходам закрыт

4. Какая защита существует от гамма - излучения?

06

- а) обычный лист бумаги, одежда
- б) каменные и деревянные стены, подвал каменного дома
- в) любое укрытие
- г) противорадиационное укрытие, глубокий овраг

5. От чего зависит доза излучения естественного радиационного фона, которой подвергается человек?

25

- а) местность, в которой он живёт вода; которую он пьёт; материалы, из которых построен его дом
- б) частое посещение лесного и горного массива
- в) нахождение рядом с автострадами, железнодорожными мостами
- г) пища, которую он ест; а одежда, которую он носит; транспорт, в котором он ездит

ОБЖ-9-15

6. Какие существуют виды ядерного оружия?

25

- а) ядерное, термоядерное, нейтронное
- б) химическое, атомное, ядерно-импульсное
- в) вакуумное, объёмное, бинарное
- г) биологическое, ядерно-космическое, термобарическое

7. На каком безопасном расстоянии следует находиться при обнаружении бесхозного дорожного чемодана, во время ожидания сотрудников правоохранительных органов?

05

- а) 280 метров
- б) 200 метров
- в) 230 метров
- г) 350 метров

8. Какой из показателей по определению Всемирной организации здравоохранения является главным индикатором состояния здоровья населения?

05

- а) процент привитых людей
- б) продолжительность жизни населения
- в) продолжительность трудовой деятельности
- г) частота простудных заболеваний в течение одного года

9. Какое опасное осложнение может возникнуть у пострадавшего при повреждении вен шеи и головы в первые минуты после травмы, если первая помощь не будет оказана своевременно?

25

- а) сепсис (заражение крови)
- б) инфицирование раны и воспаление
- в) попадание воздуха в просвет сосуда (воздушная эмболия)
- г) анафилактический (аллергический) шок

10. Укажите признаки обморока.

25

- а) отсутствие сознания, отсутствие дыхания, отсутствие пульса на сонной артерии
- б) отсутствие сознания более 3-4 минут, наличие пульса на сонной артерии, наличие дыхания
- в) отсутствие сознания до 3-4 минут, наличие пульса на сонной артерии, наличие дыхания
- г) отсутствие сознания, отсутствие дыхания, отсутствие пульса на сонной артерии, помутнение роговицы глаза



ОБЖ-9-15

Внимание! Определите все правильные ответы.  
За каждый правильный ответ начисляется 2 балла.

11. Какие значения имеет сигнал «сочетание красного и жёлтого цвета» круглого светофора?

- 45
- а) запрещает движение
  - б) информирует о предстоящем включении зелёного сигнала
  - в) информирует о наличии нерегулируемого перекрёстка
  - г) информирует о наличии нерегулируемого пешеходного перехода
  - д) отдаёт приоритет в движении велосипедам

12. Укажите место, которое Вы займёте в пустом салоне общественного транспорта в обстоятельствах позднего передвижения.

- 25
- а) поближе к водителю (машинисту)
  - б) ближе к двери
  - в) рядом с кнопкой экстренной остановки
  - г) рядом с устройством громкой связи с машинистом

13. Что означает сигнал регулировщика «руки вытянуты в стороны или опущены» для пешеходов и транспортных средств, находящихся со стороны груди и спины регулировщика?

- 25
- а) движение всех транспортных средств запрещено
  - б) движение пешеходов запрещено
  - в) пешеходам разрешено переходить проезжую часть
  - г) транспортным средствам разрешено движение прямо и направо

14. Какие существуют виды ионизирующих излучений?

- 25
- а) ионизирующее, дельта
  - б) бета, нейтронное
  - в) рентгеновское, лучевое
  - г) электромагнитное, тепловое
  - д) гамма, альфа

15. Из каких уровней состоит единая государственная система предупреждения и ликвидации чрезвычайных ситуаций (РСЧС)?

- 25
- а) федеральный, региональный
  - б) субъектовый, органы повседневного управления
  - в) связи, оповещения, информационного обеспечения
  - г) территориальный, местный, объектовый
  - д) межведомственный, ведомственный, спасательный

16. Какие существуют режимы функционирования РСЧС?

- а) режим суточной готовности
- б) режим повседневной деятельности
- в) режим часовой готовности
- г) режим чрезвычайной ситуации
- д) режим постоянной готовности

17. Какие из перечисленных утверждений верны?

- а) переутомление – естественное следствие любой работы
- б) переутомление исчезает после сна
- в) переутомление не исчезает после сна и кратковременного отдыха
- г) переутомление приводит к снижению сопротивляемости организма к различным неблагоприятным факторам
- д) переутомление исчезает после кратковременного отдыха

18. Никотин относится к опасным растительным ядам. Укажите, какие из нижеперечисленных утверждений относительно влияния никотина на организм человека являются верными.

- а) в больших дозах тормозит деятельность центральной нервной системы
- б) вызывает кислородное голодание организма, вследствие образования карбоксигемоглобина
- в) является канцерогеном
- г) вызывает спазм (сужение) сосудов
- д) тормозит восприятие действительности

19. Наличие каких признаков позволяет утверждать, что кровоостанавливающий жгут на конечность наложен правильно?

- а) посинение кожи конечности ниже наложенного жгута
- б) побледнение конечности ниже наложенного жгута
- в) отёк конечности ниже наложенного жгута
- г) отсутствие пульса на артерии ниже наложенного жгута
- д) порозовение кожи ниже наложенного жгута

20. Укажите ранние признаки биологической смерти.

- а) трупное окоченение
- б) трупные пятна
- в) помутнение роговицы
- г) деформация зрачка при давлении на глазное яблоко (признак «кошачьего глаза»)
- д) отсутствие пульса

ОБЖ-9-15

**Теоретические задания**

1. Вы живёте на девятом этаже. Поставив разогревать суп на электрической плите, Вы пошли выносить мусор, и вдруг входная дверь захлопнулась от порыва ветра. У Вас нет ключа и телефона. Сформулируйте Ваши действия исходя из сложившейся ситуации.

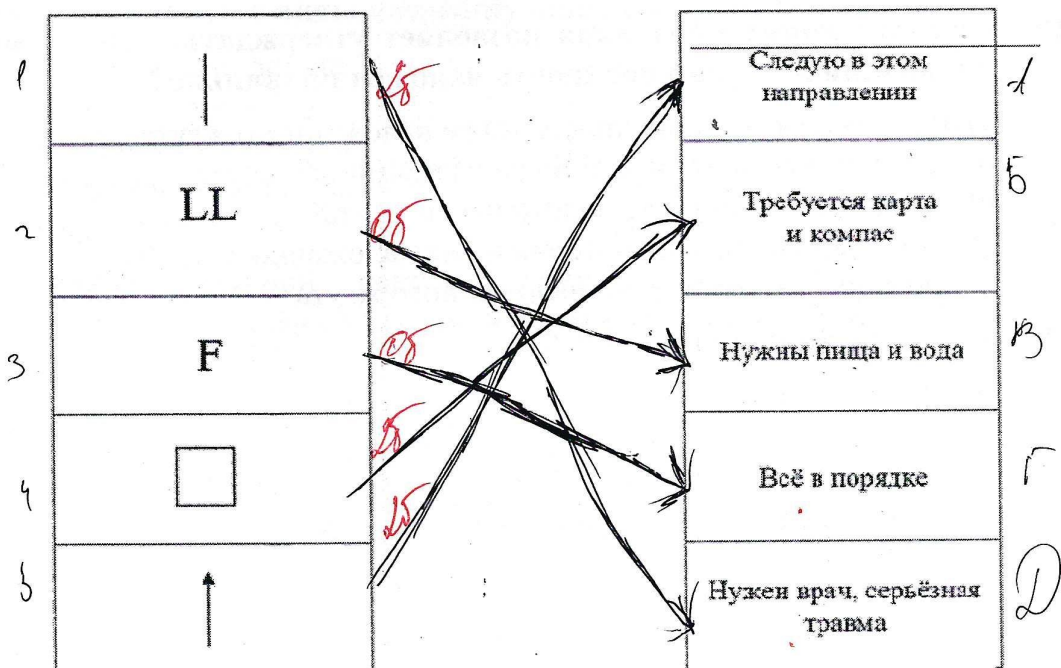
2. Отравления - заболевания, развивающиеся вследствие экзогенного воздействия на организм человека химических соединений в количествах, вызывающих нарушение физиологических функций.

Решающее значение при выборе тактики действий для оказания первой помощи при отравлениях имеет путь поступления токсичного вещества в организм человека.

А. Опишите мероприятия первой помощи при пероральных (токсическое вещество поступает через рот) отравлениях.

Б. Укажите, в каких случаях проведение отдельных приёмов первой помощи, выполняемых при пероральных отравлениях, запрещено.

3. В случае необходимости туристы могут подать международные сигналы бедствия, в том числе нанесением их изображений на поверхности большой площади. Укажите стрелками соответствие между изображениями и названиями сигналов бедствия.



65.

5-A; 1-E; 2-B; 3-C; 4-D

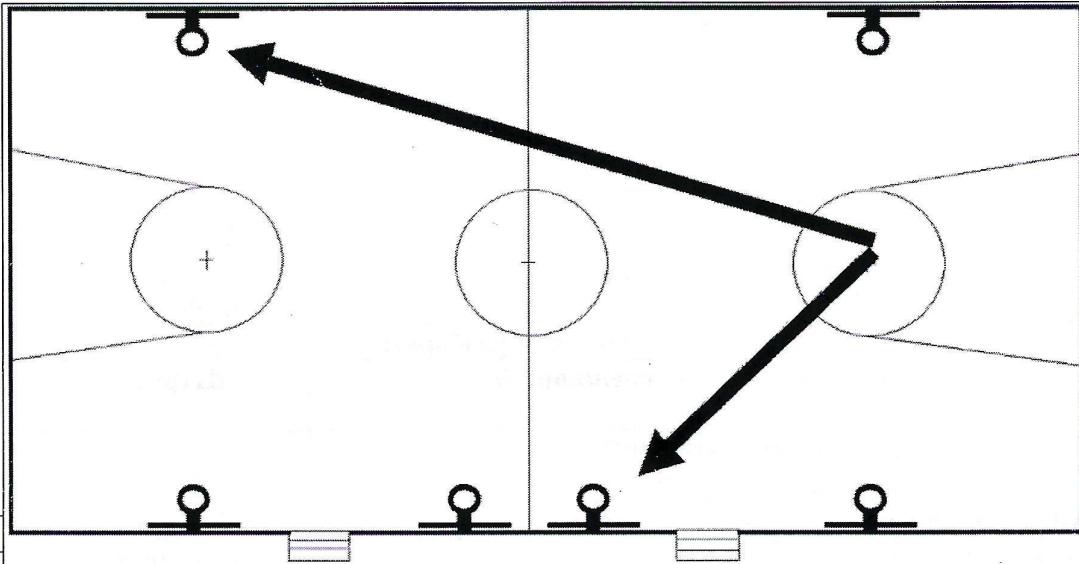


ВСЕРОССИЙСКАЯ ОЛИМПИАДА ШКОЛЬНИКОВ  
 ПО ОБЖ 2023–2024 уч. г.  
 МУНИЦИПАЛЬНЫЙ ЭТАП  
 9 классы

Маршрутная карта практического этапа

ФИО Сивкоцкий Степан Александрович  
 Класс 9  
 ОУ МКОУ СОШ с. Виноградное

1. Ориентирование на местности



№		
1	Ошибка от 1 до 5 градусов	по 5 баллов
2	Ошибка более 5 градусов	10 баллов
Оценка задания с учётом штрафных баллов		Подпись
20 - <u>0</u> =		судьи <u>[Signature]</u>


20.

2. Подача бросательного конца пострадавшему.

№	Перечень ошибок и погрешностей	Штраф
1	Непопадание с первой попытки	5 баллов
2	Непопадание с двух попыток	20 баллов
3	После попадания коренной конец выпущен из руки (утерян)	2 балла
Оценка задания с учётом штрафных баллов		Подпись
20 - _____ =		судьи <u>[Signature]</u>


18

### 3. Вязка узлов

№	Перечень ошибок и погрешностей	Штраф
1	Узел завязан неправильно (не завязан)	4 балла
2	Участник не уложился в общее время, отведенное на упражнение	20 баллов
Оценка задания с учётом штрафных баллов 20 - 8 = 12		Подпись судьи 


12

### 4. Неполная разборка автомата Калашникова

№	Перечень ошибок и погрешностей	Штраф
1	Контрольный спуск выполнен до отделения магазина, либо патрон был дослан в патронник	20 баллов
2	При контрольном спуске автомат направлен на людей	10 баллов
3	Нарушен порядок разборки (за каждый элемент)	2 балла
4	Автомат не разобран за 30 секунд	20 баллов
Оценка задания с учётом штрафных баллов 20 - 4 = 25,19 сек		Подпись судьи 

16

### 5. Сборка автомата Калашникова после неполной разборки

№	Перечень ошибок и погрешностей	Штраф
1	Спуск курка выполнен после присоединения магазина	20 баллов
2	При спуске курка автомат направлен на людей	10 баллов
3	Нарушен порядок сборки (за каждый элемент)	2 баллов
4	Автомат не собран за 40 секунд	20 баллов
Оценка задания с учётом штрафных баллов 20 - 22 = 45,47 сек		Подпись судьи 

0

Сумма штрафных баллов: \_\_\_\_\_

баллов

Общий результат: \_\_\_\_\_  
баллов

66