

ВСЕРОССИЙСКАЯ ОЛИМПИАДА ШКОЛЬНИКОВ ПО ОСНОВАМ
БЕЗОПАСНОСТИ И ЗАЩИТЫ РОДИНЫ
(МУНИЦИПАЛЬНЫЙ ЭТАП)
ТЕОРЕТИЧЕСКИЙ ТУР
третья возрастная группа (10 класс)
Код/шифр участника

0530	-	10	-	05	
------	---	----	---	----	--

Уважаемый участник Олимпиады!

Вам предстоит выполнить теоретические (письменные) и тестовые задания.

Время выполнения заданий теоретического тура 2 академических часа (90 минут).

Выполнение теоретических (письменных) заданий целесообразно организовать следующим образом:

- не спеша, внимательно прочитайте задание и определите, наиболее верный и полный ответ;
- отвечая на теоретический вопрос, обдумайте и сформулируйте конкретный ответ только на поставленный вопрос;
- если Вы отвечаете на задание, связанное с заполнением таблицы или схемы, не старайтесь детализировать информацию, вписывайте только те сведения или данные, которые указаны в вопросе;

– особое внимание обратите на задания, в выполнении которых требуется выразить Ваше мнение с учетом анализа ситуации или поставленной проблемы. Внимательно и вдумчиво определите смысл вопроса и логику ответа (последовательность и точность изложения). Отвечая на вопрос, предлагайте свой вариант решения проблемы, при этом ответ должен быть кратким, но содержать необходимую информацию;

- после выполнения всех предложенных заданий еще раз удостоверьтесь в правильности выбранных Вами ответов и решений.

Выполнение тестовых заданий целесообразно организовать следующим образом:

- не спеша, внимательно прочитайте тестовое задание;
- определите, какой из предложенных вариантов ответа наиболее верный и полный;
- обведите кружком букву, соответствующую выбранному Вами ответу;
- продолжайте таким образом работу до завершения выполнения тестовых заданий;
- после выполнения всех предложенных заданий еще раз удостоверьтесь в правильности выбранных Вами ответов;
- если потребуется корректировка выбранного Вами варианта ответа, то неправильный вариант ответа зачеркните крестиком, а новый выбранный ответ обведите кружком.

Предупреждаем Вас, что:

- при оценке тестовых заданий, где необходимо определить один *правильный ответ*, 0 баллов выставляется как за неверный ответ, а также, если участником отмечены несколько ответов (в том числе правильный), или все ответы;

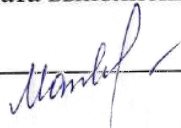
– при оценке тестовых заданий, где необходимо определить все *правильные ответы*, 0 баллов выставляется, если участником отмечено большее количество ответов, чем предусмотрено в задании (в том числе правильные ответы) или все ответы.

Задание теоретического тура считается выполненным, если Вы вовремя сдаете его членам жюри. **Максимальная оценка - 100 баллов.**

Желаем вам успеха!

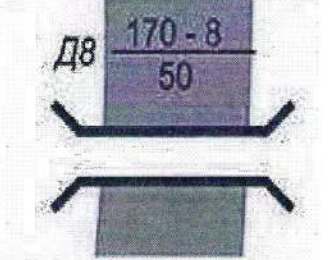

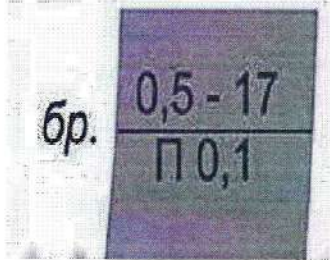
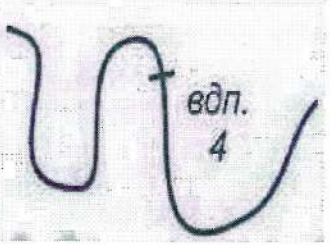
Общая оценка результата выполнения участником заданий теоретического тура 37 баллов

Председатель жюри _____



МОДУЛЬ 1

ЗАДАНИЕ 1. Определите названия (значения) условных топографических знаков по их изображениям. Расшифруйте пояснительные условные знаки.

Изображение	Название	Расшифровка
		
		
		
		

Оценочные баллы: максимальный – 6 баллов; фактический – 0 баллов

Подписи членов жюри _____

Handwritten signature

ЗАДАНИЕ 2. Прочитайте текст и напишите пропущенные слова.

А) Неинфекционные заболевания (НИЗ), также известные как хронические заболевания, как правило, имеют продолжительное течение и являются результатом воздействия комбинации генетических, физиологических, экологических и поведенческих факторов.

В структуре смертности от НИЗ, по данным Всемирной организации здравоохранения, наибольшая доля приходится на пожилые население и менопаузу
○ НИЗ передаются быстро хроническими заболеваниями.

Б) Прочитайте текст. Определите по перечисленным признакам о каком неотложном состоянии идёт речь в тексте.

Начинается с боли или неприятного ощущения в центре грудной клетки, которые продолжаются несколько минут или постоянно повторяются. Боль или неприятное ощущение может чувствоваться в руках, левом плече, локтевой области, челюсти или в спине. Другие симптомы включают:

- затрудненное дыхание или одышку;
- ощущение тошноты или рвоту;
- появление головокружения или слабости;
- появление холодного пота, бледности на лице.

○ Ответ: Инфаркт

В) Опишите мероприятия первой помощи пострадавшему, у которого отмечаются признаки, перечисленные в части «Б» задания (пострадавший в сознании).

1. Положить человека на бок

2.

3.

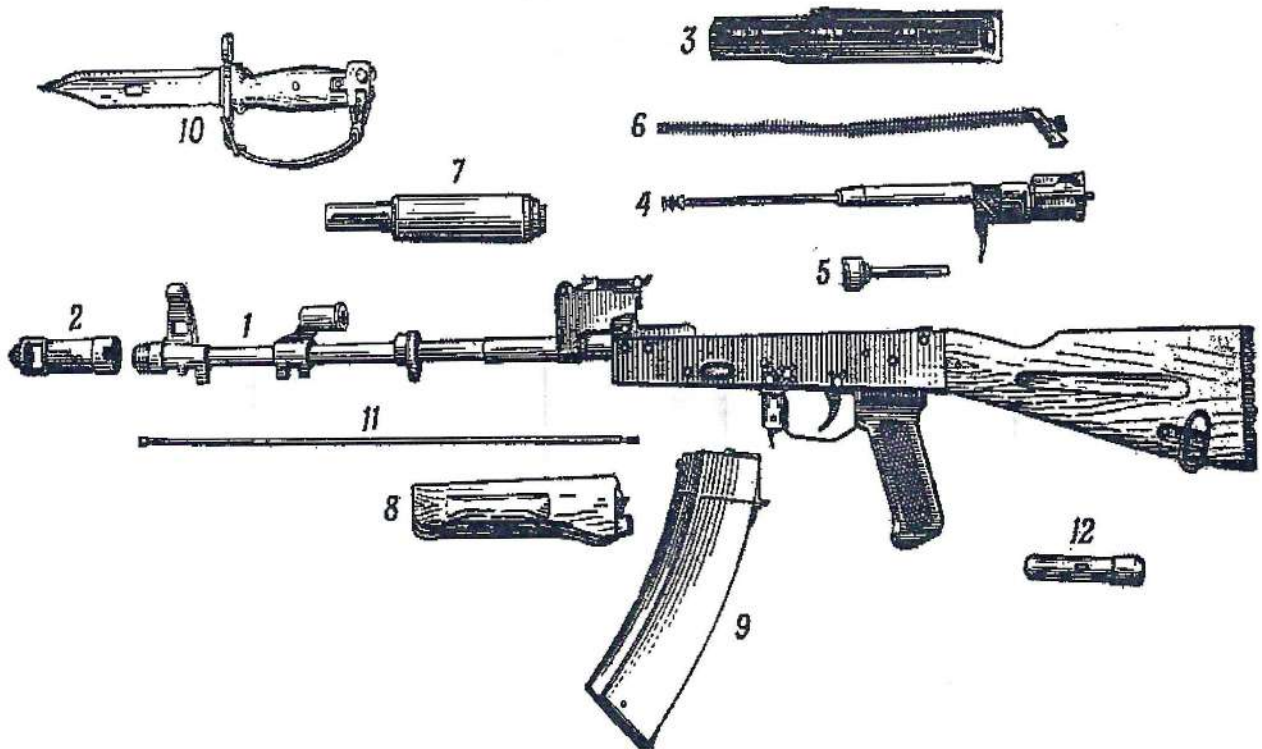
4. Позволим в 10% рассмотреть что произошло, где это произошло, ^{где лежал человек} куда вынесли, куда вынесли человека и что сделали

Оценочные баллы: максимальный - 6 баллов; фактический - 0 баллов

Подписи членов жюри Манди

ЗАДАНИЕ 3. Опишите назначение 5,45-мм автомата Калашникова АК-74м, название основных частей и механизмов автомата и его принадлежностей

Назначение 5,45-мм автомата Калашникова АК-74м _____



Название основных частей и механизмов автомата АК-74м и его принадлежностей

1-каркас, 2-тормозной дублирующий компрессор, 3-крышка,
 4-затворная рама, 5-затвор, 6-возвратный механизм,
 7-газовый толкатель, 8-?, 9-магазин, 10-штык-нож,
 11-ствол, 12-целик.

Оценочные баллы: максимальный - 7 баллов; фактический - -1 баллов

Подписи членов жюри

Handwritten signature

ЗАДАНИЕ 4. Селевые потоки зарождаются в горной местности и движутся по руслам рек, оврагам, имеющим в своих верховьях уклоны. Заполните схему, вписав три обязательных условия, совпадение которых необходимо для возникновения селя.

1

2

3

Оценочные баллы: максимальной – 4 балла; фактический – 0 баллов

Подписи членов жюри Мамед

ЗАДАНИЕ 5. Определите, поставив знак «+» в колонки «Ответ», какие поражающие факторы землетрясений и извержения вулканов относятся к первичным, а какие - к вторичным.










	Ответ		Ответ	
ПЕРВИЧНЫЕ ПОРАЖАЮЩИЕ ФАКТОРЫ	+	аварии на опасных объектах, транспорте		ВТОРИЧНЫЕ ПОРАЖАЮЩИЕ ФАКТОРЫ
		вулканические бомбы (застывшие кусочки лавы)	+	
		каменная пена (пемза)	+	
	+	лавовые фонтаны		
	+	наводнения из-за запруживания рек		
	+	обвалы, оползни		
		обрыв линий электропередач, газопроводных и канализационных сетей	+	
		палящая туча (раскаленные пыль, газы)	+	
		потоки вулканической грязи	+	
		разрушение зданий, сооружений и коммуникаций	+	
	+	смещение, вибрация почвогрунтов		

Оценочные баллы: максимальный – 11 баллов; фактический – 4 баллов

Подписи членов жюри

Handwritten signature

ЗАДАНИЕ 6. Определите и отметьте знаком «+» в колонки «Ответ», какие из приведённых дорожных знаков запрещают движение автомобилей, а какие мотоциклов.

	Ответ		Ответ	
ЗНАКИ, ЗАПРЕЩАЮЩИЕ ДВИЖЕНИЕ АВТОМОБИЛЕЙ				
				
				
				
				
				
				ЗНАКИ, ЗАПРЕЩАЮЩИЕ ДВИЖЕНИЕ МОТОЦИКЛОВ

Оценочные баллы: максимальный – 8 баллов; фактический – 2 баллов

Подписи членов жюри Монды

ЗАДАНИЕ 7. Определите, поставив знак «+», какие мероприятия, проводимые органами управления и силами РСЧС относятся к режиму повседневной деятельности, а какие к режиму повышенной готовности.

В РЕЖИМЕ ПОВСЕДНЕВНОЙ ДЕЯТЕЛЬНОСТИ		Введение при необходимости круглосуточного дежурства руководителей и должностных лиц органов управления и сил единой системы на стационарных пунктах управления		В РЕЖИМЕ ПОВЫШЕННОЙ ГОТОВНОСТИ
	<input checked="" type="checkbox"/>	Изучение состояния окружающей среды и прогнозирование чрезвычайных ситуаций		
		Непрерывный сбор, обработка и передача органам управления и силам единой системы данных о прогнозируемых чрезвычайных ситуациях, информирование населения о чрезвычайных ситуациях	<input checked="" type="checkbox"/>	
	<input checked="" type="checkbox"/>	Осуществление в пределах своих полномочий необходимых видов страхования		
	<input checked="" type="checkbox"/>	Планирование действий органов управления и сил единой системы, организация подготовки и обеспечения их деятельности		
		Подготовка населения к действиям в чрезвычайных ситуациях, в том числе при получении сигналов экстренного оповещения	<input checked="" type="checkbox"/>	
		Принятие оперативных мер по предупреждению возникновения и развития чрезвычайных ситуаций, снижению размеров ущерба и потерь в случае их возникновения, а также повышению устойчивости и безопасности функционирования организаций в чрезвычайных ситуациях	<input checked="" type="checkbox"/>	
	<input checked="" type="checkbox"/>	Пропаганда знаний в области защиты населения и территорий от чрезвычайных ситуаций и обеспечения пожарной безопасности		
	<input checked="" type="checkbox"/>	Разработка и реализация целевых и научно-технических программ и мер по предупреждению чрезвычайных ситуаций и обеспечению пожарной безопасности		
		Руководство созданием, размещением, хранением и восполнением резервов материальных ресурсов для ликвидации чрезвычайных ситуаций	<input checked="" type="checkbox"/>	
	Усиление контроля за состоянием окружающей среды, прогнозирование возникновения чрезвычайных ситуаций и их последствий	<input checked="" type="checkbox"/>		

Оценочные баллы: максимальный – 11 баллов; фактический – 8 баллов

Подписи членов жюри

Handwritten signature

ЗАДАНИЕ 8. В тексте, приведённом ниже, содержатся полномочия Президента Российской Федерации и полномочия Правительства Российской Федерации в области гражданской обороны. Разделите их, поставив напротив полномочий Президента – цифру 1, напротив полномочий Правительства – цифру 2.

Полномочия в области гражданской обороны	Ответ (цифра)
Определяет основные направления единой государственной политики в области гражданской обороны	1
Обеспечивает проведение единой государственной политики в области гражданской обороны	2
Определяет порядок приведения в готовность гражданской обороны	2
Утверждает План гражданской обороны и защиты населения Российской Федерации	1
Определяет порядок создания убежищ и иных объектов гражданской обороны, а также порядок накопления, хранения и использования в целях гражданской обороны запасов материально-технических, продовольственных, медицинских и иных средств	2
Вводит в действие План гражданской обороны и защиты населения Российской Федерации на территории Российской Федерации или в отдельных ее местностях в полном объеме или частично	1
Издает нормативные правовые акты в области гражданской обороны и организует разработку проектов федеральных законов в области гражданской обороны	1

Оценочные баллы: максимальный – 14 баллов; фактический – 12 баллов

Подписи членов жюри _____

Mambet

МОДУЛЬ 2
Тестовые задания

№ п/п	Тестовые задания	Макс. балл	Кол-во набранных баллов
Определите <u>один</u> правильный ответ			
1.	<p>В случае, если велосипедисту необходимо объехать стоящий у тротуара автомобиль, он должен:</p> <p>а) объехать автомобиль слева, убедившись в безопасности маневра;</p> <p><input checked="" type="radio"/> б) подать рукой сигнал перестроения налево, убедиться в безопасности объезда и только после этого совершить маневр;</p> <p>в) подать сигнал и совершить объезд препятствия (сигнал дает велосипедисту преимущество);</p> <p>г) дождаться, когда автомобиль начнет движение.</p>	1	1
2.	<p>При пероральном отравлении нельзя вызывать рвоту у пострадавшего, если:</p> <p>а) у пострадавшего уже была рвота;</p> <p>б) произошло отравление лекарственными препаратами;</p> <p>в) отравление произошло, но он хорошо себя чувствует;</p> <p><input checked="" type="radio"/> г) произошло отравление веществами прижигающего действия.</p>	1	1
3.	<p>Знак дорожного движения «Конец всех ограничений» относится к группе:</p> <p>а) предупреждающие знаки;</p> <p><input checked="" type="radio"/> б) знаки приоритета;</p> <p>в) запрещающие знаки;</p> <p>г) предписывающие знаки.</p>	1	0
4.	<p>Продолжительность рабочего времени для трудящихся в возрасте до 16 лет должна быть не более:</p> <p><input checked="" type="radio"/> а) четырех часов в течение одного рабочего дня;</p> <p>б) 16 часов в неделю;</p> <p>в) 8 часов в неделю;</p> <p>г) 24 часов в неделю.</p>	1	0

5.	Чрезвычайное положение на всей территории Российской Федерации или в её отдельных местностях вводится: а) Указом Президента Российской Федерации; <input checked="" type="radio"/> б) Постановлением Правительства Российской Федерации; в) Постановлением Верховного Суда Российской Федерации; г) Постановлением Государственной Думы Российской Федерации; д) Постановлением Совета Федерации Российской Федерации.	1	0
6.	Аварии на коммунальных системах по скорости распространения относятся к: а) внезапным; <input checked="" type="radio"/> б) стремительным; в) умеренным; г) плавным.	1	0
7.	Одной из причин осечки в АК-74 М является: <input checked="" type="radio"/> а) неисправность защелки магазина; б) загрязнение трущихся частей, газовых путей или патронника; в) заклинивание ударника в затворе; г) неисправность пружины возвратного механизма.	1	0
8.	Перестроение отделения из развёрнутого строя в колонну производится по команде: а) отделение, в колонну – становись; <input checked="" type="radio"/> б) отделение, в колонну по одному (по два) – становись; в) отделение, напра-ВО; г) отделение, нале-ВО.	1	0
9.	Корабельное воинское звание «старшина 1 статьи»: а) соответствует войсковому воинскому званию «сержант»; б) старше по званию войскового воинского звания «сержант»; в) младше по званию войскового воинского звания «сержант»; <input checked="" type="radio"/> г) соответствует войсковому воинскому званию «старшина».	1	0
10.	Поражение электрическим током напряжением до 380 В, вызывает у пострадавшего следующее повреждение: а) электрические метки; <input checked="" type="radio"/> б) судороги и спазм дыхательной мускулатуры; в) отек мозга; г) разрывы внутренних органов.	1	0

Определите <u>все</u> правильные ответы			
11.	<p>Отметьте признаки будущего ухудшения погоды:</p> <p><input type="radio"/> а) воробьи «купаются» в пыли;</p> <p><input type="radio"/> б) ель распрямляет длинные ветви;</p> <p>в) утром туман стелется по земле;</p> <p><input checked="" type="radio"/> г) вечером сильно пахнет травой;</p> <p>д) вечерняя заря красного цвета;</p> <p>е) вечером небо золотистого или розового цвета.</p>	3	2
12.	<p>Контрольные узлы обязательно вяжутся на следующих туристических узлах:</p> <p>а) ткацкий;</p> <p><input checked="" type="radio"/> б) грейшвайн;</p> <p>в) двойной проводник;</p> <p><input checked="" type="radio"/> г) академический;</p> <p>д) австрийский проводник.</p>	2	1
13.	<p>Признаками приближения бури, урагана и смерча могут служить:</p> <p><input checked="" type="radio"/> а) усиление скорости ветра;</p> <p>б) подъем уровня воды;</p> <p>в) резкое падение атмосферного давления;</p> <p><input checked="" type="radio"/> г) быстрое обнажение морского дна.</p>	2	1
14.	<p>Роль окислителя при возникновении и развитии пожара может выполнять:</p> <p><input checked="" type="radio"/> а) азот;</p> <p>б) окислы азота;</p> <p>в) метан;</p> <p>г) пропан;</p> <p><input checked="" type="radio"/> д) фтор.</p>	2	1
15.	<p>На вооружении спасательных воинских формирований федерального органа исполнительной власти, уполномоченного на решение задач в области гражданской обороны, находится:</p> <p><input checked="" type="radio"/> а) специальная техника;</p> <p><input checked="" type="radio"/> б) боевое ручное стрелковое оружие;</p> <p>в) бронетанковая техника;</p> <p>г) средства установки минных заграждений;</p> <p><input checked="" type="radio"/> д) средства борьбы с воздушными целями.</p>	2	0

16.	Основными загрязнителями воздуха являются: <input type="radio"/> а) нефтепродукты; <input type="radio"/> б) пестициды; <input checked="" type="radio"/> в) сажа; <input type="radio"/> г) углеводороды.	2	1
17.	Первичные средства пожаротушения подразделяются на следующие типы: <input type="radio"/> а) средства пожарной сигнализации; <input checked="" type="radio"/> б) пожарный инвентарь; <input type="radio"/> в) пожарные машины; <input type="radio"/> г) генераторные огнетушители аэрозольные переносные.	2	1
18.	Офицер в звании капитан-лейтенант является начальником для всех: <input type="radio"/> а) мичманов; <input checked="" type="radio"/> б) сержантов; <input checked="" type="radio"/> в) лейтенантов; <input type="radio"/> г) прапорщиков; <input checked="" type="radio"/> д) старших матросов.	2	0
19.	К личному оружию военнослужащих относятся: <input checked="" type="radio"/> а) граната ручная; <input type="radio"/> б) гранатомёт станковый; <input type="radio"/> в) карабин; <input checked="" type="radio"/> г) лопата малая сапёрная; <input checked="" type="radio"/> д) пистолет; <input checked="" type="radio"/> е) автомат.	3	2
20.	Укажите даты – Дни воинской славы – установленные в честь морских побед Российского флота: <input type="radio"/> а) 02 февраля; <input type="radio"/> б) 07 июля; <input type="radio"/> в) 10 июля; <input type="radio"/> г) 09 августа; <input type="radio"/> д) 23 августа; <input checked="" type="radio"/> е) 11 сентября.	3	1
	Количество баллов	<i>max</i> 33	12

Подписи членов жюри

ВСЕРОССИЙСКАЯ ОЛИМПИАДА ШКОЛЬНИКОВ ОБЗР 2024–
2025 учебный год
МУНИЦИПАЛЬНЫЙ ЭТАП. 10 КЛАССЫ

Практический тур

Маршрутная карта практического тура

Код/шифр участника

ОБЗР	- 10 -	05	
------	--------	----	--

Задание 1. Неполная разборка автомата Калашникова

№	Перечень ошибок и погрешностей	Штраф (баллы)
1	Нарушена очередность неполной разборки	2
2	До отделения магазина отведена затворная рама, снят курок с боевого взвода (произведен «выстрел»)	10
3	При спуске курка с боевого взвода автомат направлен на людей	1
4	Затвор не отделён от затворной рамы	1
5	Автомат не разобран за 30 секунд	10
Оценка задания с учётом штрафных баллов 10 – <u>8</u> = <u>8</u> 19.14		Подпись судьи

Оценка задания. Максимальная оценка за правильно выполненные задания – 10 баллов.

Задание 2. Сборка автомата Калашникова после неполной разборки


№	Перечень ошибок и погрешностей	Штраф (баллы)
1	Нарушена очередность сборки	2
2	После присоединения газовой трубки со ствольной накладкой замыкатель не зафиксирован в выемке на колодке прицела	1
3	Спустил курок с боевого взвода после присоединения магазина	1
4	При спуске курка с боевого взвода автомат направлен на людей	1
5	Автомат не собран за 40 секунд	10
Оценка задания с учётом штрафных баллов 10 – <u>10</u> = <u>10</u> 25.48		Подпись судьи

Оценка задания. Максимальная оценка за правильно выполненные задания – 10 баллов.

Задание 3. Снаряжение магазина патронами.

Оценка задания. Максимальная оценка за правильно выполненные задания – 10 баллов.


№ п/п	Ошибки	Штраф (баллы)
1.	Неисправный магазин разряжен не полностью	10
2.	Снаряжение исправного магазина 30 патронами выполнено не полностью (за каждый патрон)	1
Сумма штрафных баллов		

Оценка задания с учётом штрафных баллов 10 - <u>10</u> = <u>10</u> 52.23	Подпись судьи 
---	---

ЗАДАНИЕ 4. Надевание общевойскового защитного комплекта (ОЗК)


Оценка задания. Максимальная оценка за правильно выполненное задание – 20 баллов.

5,13

№ п/п	Ошибки	Штраф (баллы)
1.	Не надет капюшон	5
2.	Перчатки не заправлены в рукава (за каждую ошибку)	3
3.	Перекося шлем-маски противогаза	<u>5</u>
4.	Не застёгнуты шпеньки на плаще и чулках (за каждую ошибку)	3
5.	Неправильно застёгнуты борта плаща	10
6.	Не подвязаны тесёмки	5
7.	Нарушена последовательность надевания ОЗК	10
8.	Разрыв нити, имитирующей проволочную «растяжку»	20
9.	Задание не выполнялось	20
Сумма штрафных баллов		5
Оценка задания с учётом штрафных баллов 20 - <u>5</u> = <u>15</u>		Подпись судьи 

ЗАДАНИЕ 5. Вязка узлов.

Оценка задания. Максимальная оценка за правильно выполненное задание – 35 баллов.

№ п/п	Ошибки	Штраф (баллы)
1.	Не завязан или неправильно завязан контрольный узел (за каждую ошибку)	5
2.	Перекручены пряди в узле (за каждую ошибку)	5
3.	Узел не затянут (за каждую ошибку)	5
4.	Узел развязался или изменил рисунок (за каждую ошибку)	7
5.	Завязан узел, не соответствующий заданию (за каждую ошибку)	7
6.	Задание не выполнялось	35
Сумма штрафных баллов		
Оценка задания с учётом штрафных баллов 35 - <u>5</u> = <u>30</u>		Подпись судьи 

ЗАДАНИЕ 6. Оказание первой помощи пострадавшему в состоянии клинической смерти.

Оценка задания. Максимальная оценка за правильно выполненное задание – 15 баллов.

№ п/п	Перечень ошибок и погрешностей	Штраф (баллы)
1	Не определено наличие дыхания с помощью слуха, зрения и осязания	5
2	Не проверен пульс на сонной артерии (на любой из магистральных артерий)	15
3	Не сделано освобождение грудной клетки от одежды	2
4	Не ослаблен поясной ремень (не расстегнут пояс)	2
5	Не проверена проходимость дыхательных путей (не очищена ротовая полость)	2
6	При вдохе ИВЛ не запрокидывается голова пострадавшего	2
7	При вдохе ИВЛ не зажат нос	2
8	Вдох ИВЛ сделан без защитной маски (нарушение собственной техники безопасности)	15
9	После проведения комплекса реанимации или только нажатий непрямого массажа сердца (давления руками на грудину пострадавшего) в течение 2-х минут не появился пульс (при наличии функции индикации на тренажере)	15
10	Перелом каждого ребра (при наличии функции индикации на тренажере)	2
11	Перелом 6-ти ребер (при наличии функции индикации на тренажере)	15
12	Некорректное обращение с пострадавшим	2
13	Помощь пострадавшему не оказана	15
Сумма штрафных баллов		
Оценка задания с учётом штрафных баллов 15 – 2 = 13		Подпись судьи <i>Монды</i>

Максимальная оценка – 100 баллов, фактическая оценка 86 баллов
Подписи членов жюри *Монды*

ВСЕРОССИЙСКАЯ ОЛИМПИАДА ШКОЛЬНИКОВ ПО ОСНОВАМ
БЕЗОПАСНОСТИ И ЗАЩИТЫ РОДИНЫ
(МУНИЦИПАЛЬНЫЙ ЭТАП)
ТЕОРЕТИЧЕСКИЙ ТУР
третья возрастная группа (10 класс)
Код/шифр участника

05	ЗР	—	10	—	08
----	----	---	----	---	----

Уважаемый участник Олимпиады!

Вам предстоит выполнить теоретические (письменные) и тестовые задания.

Время выполнения заданий теоретического тура 2 академических часа (90 минут).

Выполнение теоретических (письменных) заданий целесообразно организовать следующим образом:

– не спеша, внимательно прочитайте задание и определите, наиболее верный и полный ответ;

– отвечая на теоретический вопрос, обдумайте и сформулируйте конкретный ответ только на поставленный вопрос;

– если Вы отвечаете на задание, связанное с заполнением таблицы или схемы, не старайтесь детализировать информацию, вписывайте только те сведения или данные, которые указаны в вопросе;

– особое внимание обратите на задания, в выполнении которых требуется выразить Ваше мнение с учетом анализа ситуации или поставленной проблемы. Внимательно и вдумчиво определите смысл вопроса и логику ответа (последовательность и точность изложения). Отвечая на вопрос, предлагайте свой вариант решения проблемы, при этом ответ должен быть кратким, но содержать необходимую информацию;

– после выполнения всех предложенных заданий еще раз удостоверьтесь в правильности выбранных Вами ответов и решений.

Выполнение тестовых заданий целесообразно организовать следующим образом:

– не спеша, внимательно прочитайте тестовое задание;

– определите, какой из предложенных вариантов ответа наиболее верный и полный;

– обведите кружком букву, соответствующую выбранному Вами ответу;

– продолжайте таким образом работу до завершения выполнения тестовых заданий;

– после выполнения всех предложенных заданий еще раз удостоверьтесь в правильности выбранных Вами ответов;

– если потребуется корректировка выбранного Вами варианта ответа, то неправильный вариант ответа зачеркните крестиком, а новый выбранный ответ обведите кружком.

Предупреждаем Вас, что:

– при оценке тестовых заданий, где необходимо определить один *правильный ответ*, 0 баллов выставляется как за неверный ответ, а также, если участником отмечены несколько ответов (в том числе правильный), или все ответы;

– при оценке тестовых заданий, где необходимо определить все *правильные ответы*, 0 баллов выставляется, если участником отмечено большее количество ответов, чем предусмотрено в задании (в том числе правильные ответы) или все ответы.

Задание теоретического тура считается выполненным, если Вы вовремя сдаете его членам жюри. **Максимальная оценка - 100 баллов.**

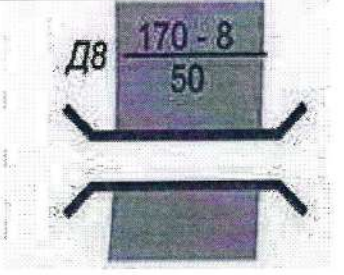

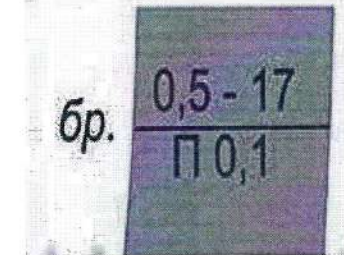

Желаем вам успеха!

Общая оценка результата выполнения участником заданий теоретического тура 44 баллов

Председатель жюри _____

МОДУЛЬ 1

ЗАДАНИЕ 1. Определите названия (значения) условных топографических знаков по их изображениям. Расшифруйте пояснительные условные знаки.

Изображение	Название	Расшифровка
		
		
		
		

Оценочные баллы: максимальный — 6 баллов; фактический — 0 баллов

Подписи членов жюри _____

Handwritten signature

ЗАДАНИЕ 2. Прочитайте текст и напишите пропущенные слова.

А) Неинфекционные заболевания (НИЗ), также известные как хронические заболевания, как правило, имеют продолжительное течение и являются результатом воздействия комбинации генетических, физиологических, экологических и поведенческих факторов.

**В структуре смертности от НИЗ, по данным Всемирной организации здравоохранения, наибольшая доля приходится на _____
_____ заболевания.**

Б) Прочитайте текст. Определите по перечисленным признакам о каком неотложном состоянии идёт речь в тексте.

Начинается с боли или неприятного ощущения в центре грудной клетки, которые продолжаются несколько минут или постоянно повторяются. Боль или неприятное ощущение может чувствоваться в руках, левом плече, локтевой области, челюсти или в спине. Другие симптомы включают:

- затрудненное дыхание или одышку;
- ощущение тошноты или рвоту;
- появление головокружения или слабости;
- появление холодного пота, бледности на лице.

Р Ответ: удушие.

В) Опишите мероприятия первой помощи пострадавшему, у которого отмечаются признаки, перечисленные в части «Б» задания (пострадавший в сознании).

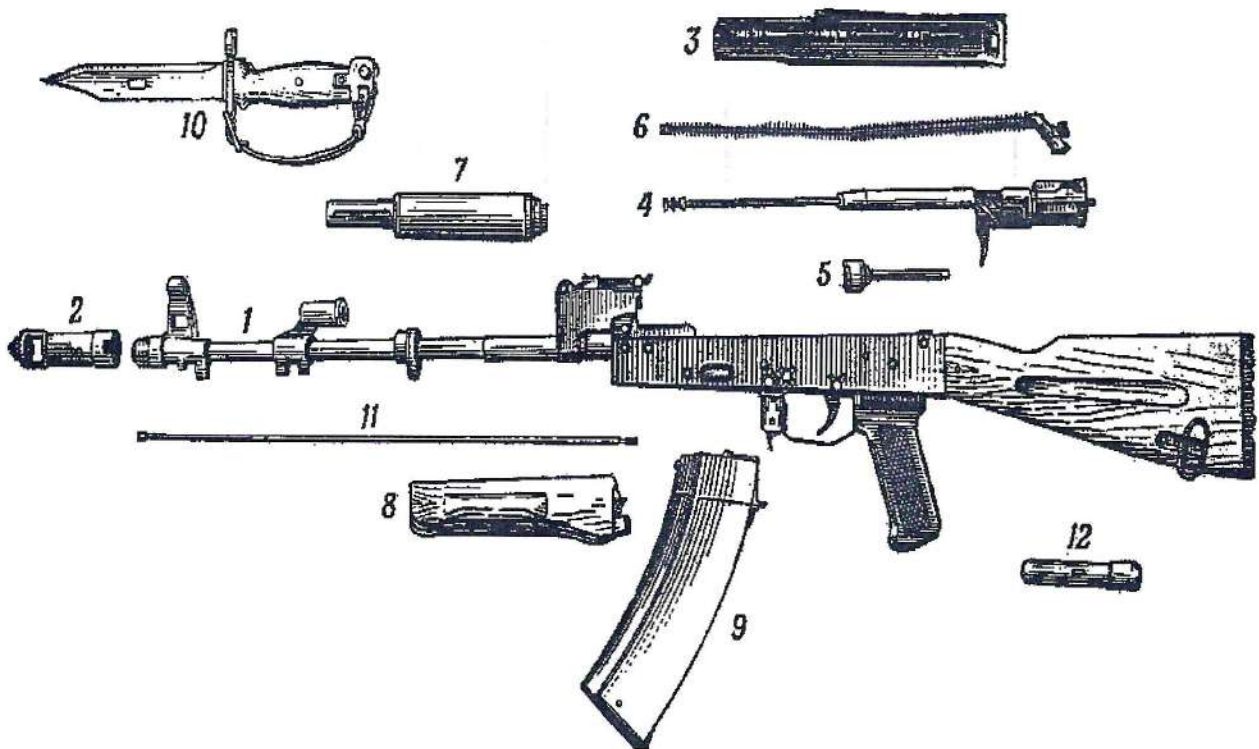
1. освободить зону шеи от одежды, чтобы облегчить дыхание.
2. вывести пострадавшего на свежий воздух.
3. посадить пострадавшего на ровную поверхность и положить спину на стену.
4. _____

Оценочные баллы: максимальный - 6 баллов; фактический - 0 баллов

Подписи членов жюри Мамкина

ЗАДАНИЕ 3. Опишите назначение 5,45-мм автомата Калашникова АК-74м, название основных частей и механизмов автомата и его принадлежностей

Назначение 5,45-мм автомата Калашникова АК-74м _____



Название основных частей и механизмов автомата АК-74м и его принадлежностей

- | | |
|----------------------------------|---------------|
| 1. - | 9. магазин. + |
| 2. дульный тормоз компенсатор. + | 10. - |
| 3. крышка. -1 | 11. шомпол. + |
| 4. - | 12. пинал. -1 |
| 5. - | |
| 6. отводный механизм. | |
| 7. газовая трубка. -1 | |
| 8. приклад. | |

Оценочные баллы: максимальный - 7 баллов; фактический - -1 баллов

Подписи членов жюри Мондиф

ЗАДАНИЕ 4. Селевые потоки зарождаются в горной местности и движутся по руслам рек, оврагам, имеющим в своих верховьях уклоны. Заполните схему, вписав три обязательных условия, совпадение которых необходимо для возникновения селя.

1

2

3

Оценочные баллы: максимальный – 4 балла; фактический – 0 баллов

Подписи членов жюри Монды

ЗАДАНИЕ 5. Определите, поставив знак «+» в колонки «Ответ», какие поражающие факторы землетрясений и извержения вулканов относятся к первичным, а какие - к вторичным.







	Ответ		Ответ	
ПЕРВИЧНЫЕ ПОРАЖАЮЩИЕ ФАКТОРЫ	+	аварии на опасных объектах, транспорте		ВТОРИЧНЫЕ ПОРАЖАЮЩИЕ ФАКТОРЫ
		вулканические бомбы (застывшие кусочки лавы)	+	
		каменная пена (пемза)	+	
	+	лавовые фонтаны		
		наводнения из-за запруживания рек	+	
	+	обвалы, оползни		
	+	обрыв линий электропередач, газопроводных и канализационных сетей		
		палящая туча (раскаленные пыль, газы)	+	
		потоки вулканической грязи	+	
		разрушение зданий, сооружений и коммуникаций	+	
	+	смещение, вибрация почвогрунтов		

Оценочные баллы: максимальный – 11 баллов; фактический – 4 баллов

Подписи членов жюри

Handwritten signature

ЗАДАНИЕ 6. Определите и отметьте знаком «+» в колонки «Ответ», какие из приведённых дорожных знаков запрещают движение автомобилей, а какие мотоциклов.

	Ответ		Ответ	
ЗНАКИ, ЗАПРЕЩАЮЩИЕ ДВИЖЕНИЕ АВТОМОБИЛЕЙ	+			ЗНАКИ, ЗАПРЕЩАЮЩИЕ ДВИЖЕНИЕ МОТОЦИКЛОВ
	f			
	+		+	
				
	f		f	
			+	

Оценочные баллы: максимальный – 8 баллов; фактический – 4 баллов

Подписи членов жюри Мамли

ЗАДАНИЕ 7. Определите, поставив знак «+», какие мероприятия, проводимые органами управления и силами РСЧС относятся к режиму повседневной деятельности, а какие к режиму повышенной готовности.

В РЕЖИМЕ ПОВСЕДНЕВНОЙ ДЕЯТЕЛЬНОСТИ		Введение при необходимости круглосуточного дежурства руководителей и должностных лиц органов управления и сил единой системы на стационарных пунктах управления	+	В РЕЖИМЕ ПОВЫШЕННОЙ ГОТОВНОСТИ
	+	Изучение состояния окружающей среды и прогнозирование чрезвычайных ситуаций		
		Непрерывный сбор, обработка и передача органам управления и силам единой системы данных о прогнозируемых чрезвычайных ситуациях, информирование населения о чрезвычайных ситуациях	+	
		Осуществление в пределах своих полномочий необходимых видов страхования	+	
	+	Планирование действий органов управления и сил единой системы, организация подготовки и обеспечения их деятельности		
	+	Подготовка населения к действиям в чрезвычайных ситуациях, в том числе при получении сигналов экстренного оповещения		
		Принятие оперативных мер по предупреждению возникновения и развития чрезвычайных ситуаций, снижению размеров ущерба и потерь в случае их возникновения, а также повышению устойчивости и безопасности функционирования организаций в чрезвычайных ситуациях	+	
	+	Пропаганда знаний в области защиты населения и территорий от чрезвычайных ситуаций и обеспечения пожарной безопасности		
	+	Разработка и реализация целевых и научно-технических программ и мер по предупреждению чрезвычайных ситуаций и обеспечению пожарной безопасности		
	+	Руководство созданием, размещением, хранением и восполнением резервов материальных ресурсов для ликвидации чрезвычайных ситуаций		
	Усиление контроля за состоянием окружающей среды, прогнозирование возникновения чрезвычайных ситуаций и их последствий	+		

Оценочные баллы: максимальный) – 11 баллов; фактический – 10 баллов

Подписи членов жюри

M. M. M.

ЗАДАНИЕ 8. В тексте, приведённом ниже, содержатся полномочия Президента Российской Федерации и полномочия Правительства Российской Федерации в области гражданской обороны. Разделите их, поставив напротив полномочий Президента – цифру 1, напротив полномочий Правительства – цифру 2.

Полномочия в области гражданской обороны	Ответ (цифра)
Определяет основные направления единой государственной политики в области гражданской обороны	1
Обеспечивает проведение единой государственной политики в области гражданской обороны	2
Определяет порядок приведения в готовность гражданской обороны	2
Утверждает План гражданской обороны и защиты населения Российской Федерации	1
Определяет порядок создания убежищ и иных объектов гражданской обороны, а также порядок накопления, хранения и использования в целях гражданской обороны запасов материально-технических, продовольственных, медицинских и иных средств	2
Вводит в действие План гражданской обороны и защиты населения Российской Федерации на территории Российской Федерации или в отдельных ее местностях в полном объеме или частично	1
Издает нормативные правовые акты в области гражданской обороны и организует разработку проектов федеральных законов в области гражданской обороны	/

Оценочные баллы: максимальный – 14 баллов; фактический – 12 баллов

Подписи членов жюри

Handwritten signature

МОДУЛЬ 2
Тестовые задания

№ п/п	Тестовые задания	Макс. балл	Кол-во набранных баллов
Определите один правильный ответ			
1.	<p>В случае, если велосипедисту необходимо объехать стоящий у тротуара автомобиль, он должен:</p> <p>а) объехать автомобиль слева, убедившись в безопасности маневра;</p> <p><input checked="" type="radio"/> б) подать рукой сигнал перестроения налево, убедиться в безопасности объезда и только после этого совершить маневр;</p> <p>в) подать сигнал и совершить объезд препятствия (сигнал дает велосипедисту преимущество);</p> <p>г) дождаться, когда автомобиль начнет движение.</p>	1	1
2.	<p>При пероральном отравлении нельзя вызывать рвоту у пострадавшего, если:</p> <p>а) у пострадавшего уже была рвота;</p> <p>б) произошло отравление лекарственными препаратами;</p> <p>в) отравление произошло, но он хорошо себя чувствует;</p> <p><input checked="" type="radio"/> г) произошло отравление веществами прижигающего действия.</p>	1	1
3.	<p>Знак дорожного движения «Конец всех ограничений» относится к группе:</p> <p><input checked="" type="radio"/> а) предупреждающие знаки;</p> <p>б) знаки приоритета;</p> <p>в) запрещающие знаки;</p> <p>г) предписывающие знаки.</p>	1	0
4.	<p>Продолжительность рабочего времени для трудящихся в возрасте до 16 лет должна быть не более:</p> <p>а) четырех часов в течение одного рабочего дня;</p> <p>б) 16 часов в неделю;</p> <p><input checked="" type="radio"/> в) 8 часов в неделю;</p> <p>г) 24 часов в неделю.</p>	1	0

5.	<p>Чрезвычайное положение на всей территории Российской Федерации или в её отдельных местностях вводится:</p> <p>а) Указом Президента Российской Федерации;</p> <p><input checked="" type="radio"/> б) Постановлением Правительства Российской Федерации;</p> <p>в) Постановлением Верховного Суда Российской Федерации;</p> <p>г) Постановлением Государственной Думы Российской Федерации;</p> <p>д) Постановлением Совета Федерации Российской Федерации.</p>	1	0
6.	<p>Аварии на коммунальных системах по скорости распространения относятся к:</p> <p>а) внезапным;</p> <p>б) стремительным;</p> <p><input checked="" type="radio"/> в) умеренным;</p> <p>г) плавным.</p>	1	1
7.	<p>Одной из причин осечки в АК-74 М является:</p> <p>а) неисправность запелки магазина;</p> <p>б) загрязнение трущихся частей, газовых путей или патронника;</p> <p>в) заклинивание ударника в затворе;</p> <p><input checked="" type="radio"/> г) неисправность пружины возвратного механизма.</p>	1	0
8.	<p>Перестроение отделения из развёрнутого строя в колонну производится по команде:</p> <p>а) отделение, в колонну – становись;</p> <p><input checked="" type="radio"/> б) отделение, в колонну по одному (по два) – становись;</p> <p>в) отделение, напра-ВО;</p> <p>г) отделение, нале-ВО.</p>	1	0
9.	<p>Корабельное воинское звание «старшина 1 статьи»:</p> <p>а) соответствует войсковому воинскому званию «сержант»;</p> <p><input checked="" type="radio"/> б) старше по званию войскового воинского звания «сержант»;</p> <p>в) младше по званию войскового воинского звания «сержант»;</p> <p>г) соответствует войсковому воинскому званию «старшина».</p>	1	0
10.	<p>Поражение электрическим током напряжением до 380 В, вызывает у пострадавшего следующее повреждение:</p> <p>а) электрические метки;</p> <p><input checked="" type="radio"/> б) судороги и спазм дыхательной мускулатуры;</p> <p>в) отек мозга;</p> <p>г) разрывы внутренних органов.</p>	1	0

Определите <u>все</u> правильные ответы			
11.	<p>Отметьте признаки будущего ухудшения погоды:</p> <p><input checked="" type="checkbox"/> а) воробьи «купаются» в пыли;</p> <p>б) ель распрямляет длинные ветви;</p> <p><input checked="" type="checkbox"/> в) утром туман стелется по земле;</p> <p>г) вечером сильно пахнет травой;</p> <p><input checked="" type="checkbox"/> д) вечерняя заря красного цвета;</p> <p>е) вечером небо золотистого или розового цвета.</p>	3	2
12.	<p>Контрольные узлы обязательно вяжутся на следующих туристических узлах:</p> <p>а) ткацкий;</p> <p><input checked="" type="checkbox"/> б) грейпвайн;</p> <p>в) двойной проводник;</p> <p><input checked="" type="checkbox"/> г) академический;</p> <p>д) австрийский проводник.</p>	2	1
13.	<p>Признаками приближения бури, урагана и смерча могут служить:</p> <p><input checked="" type="checkbox"/> а) усиление скорости ветра;</p> <p>б) подъем уровня воды;</p> <p>в) резкое падение атмосферного давления;</p> <p><input checked="" type="checkbox"/> г) быстрое обнажение морского дна.</p>	2	1
14.	<p>Роль окислителя при возникновении и развитии пожара может выполнять:</p> <p>а) азот;</p> <p><input checked="" type="checkbox"/> б) окислы азота;</p> <p>в) метан;</p> <p>г) пропан;</p> <p><input checked="" type="checkbox"/> д) фтор.</p>	2	2
15.	<p>На вооружении спасательных воинских формирований федерального органа исполнительной власти, уполномоченного на решение задач в области гражданской обороны, находится:</p> <p><input checked="" type="checkbox"/> а) специальная техника;</p> <p>б) боевое ручное стрелковое оружие;</p> <p><input checked="" type="checkbox"/> в) бронетанковая техника;</p> <p>г) средства установки минных заграждений;</p> <p>д) средства борьбы с воздушными целями.</p>	2	1

16.	Основными загрязнителями воздуха являются: а) нефтепродукты; <input checked="" type="radio"/> б) пестициды; <input checked="" type="radio"/> в) сажа; г) углеводороды.	2	1
17.	Первичные средства пожаротушения подразделяются на следующие типы: <input checked="" type="radio"/> а) средства пожарной сигнализации; <input checked="" type="radio"/> б) пожарный инвентарь; в) пожарные машины; г) генераторные огнетушители аэрозольные переносные.	2	1
18.	Офицер в звании капитан-лейтенант является начальником для всех: а) мичманов; <input checked="" type="radio"/> б) сержантов; <input checked="" type="radio"/> в) лейтенантов; г) прапорщиков; д) старших матросов.	2	1
19.	К личному оружию военнослужащих относятся: а) граната ручная; б) гранатомёт станковый; <input checked="" type="radio"/> в) карабин; <input checked="" type="radio"/> г) лопата малая сапёрная; д) пистолет; <input checked="" type="radio"/> е) автомат.	3	2
20.	Укажите даты – Дни воинской славы – установленные в честь морских побед Российского флота: <input checked="" type="radio"/> а) 02 февраля; б) 07 июля; <input checked="" type="radio"/> в) 10 июля; г) 09 августа; <input checked="" type="radio"/> д) 23 августа; е) 11 сентября.	3	0
	Количество баллов	max 33	15

Подписи членов жюри

Handwritten signature

ВСЕРОССИЙСКАЯ ОЛИМПИАДА ШКОЛЬНИКОВ ОБЗР 2024–
2025 учебный год
МУНИЦИПАЛЬНЫЙ ЭТАП. 10 КЛАССЫ


Практический тур

Маршрутная карта практического тура

Код/шифр участника


053Р-10-08			
------------	--	--	--

Задание 1. Неполная разборка автомата Калашникова

№	Перечень ошибок и погрешностей	Штраф (баллы)
1	Нарушена очередность неполной разборки	2
2	До отделения магазина отведена затворная рама, снят курок с боевого взвода (произведен «выстрел»)	10
3	При спуске курка с боевого взвода автомат направлен на людей	1
4	Затвор не отделён от затворной рамы	1
5	Автомат не разобран за 30 секунд	10
Оценка задания с учётом штрафных баллов 10 – <u>10</u> = <u>22:21</u>		Подпись судьи 

Оценка задания. Максимальная оценка за правильно выполненные задания – 10 баллов.

Задание 2. Сборка автомата Калашникова после неполной разборки


№	Перечень ошибок и погрешностей	Штраф (баллы)
1	Нарушена очередность сборки	<u>2</u>
2	После присоединения газовой трубки со ствольной накладкой замыкатель не зафиксирован в выемке на колодке прицела	1
3	Спустил курок с боевого взвода после присоединения магазина	1
4	При спуске курка с боевого взвода автомат направлен на людей	1
5	Автомат не собран за 40 секунд	10
Оценка задания с учётом штрафных баллов 10 – <u>8</u> = <u>8</u> 32:06		Подпись судьи 

Оценка задания. Максимальная оценка за правильно выполненные задания – 10 баллов.

Задание 3. Снаряжение магазина патронами.

Оценка задания. Максимальная оценка за правильно выполненные задания – 10 баллов.


№ п/п	Ошибки	Штраф (баллы)
1.	Неисправный магазин разряжен не полностью	10
2.	Снаряжение исправного магазина 30 патронами выполнено не полностью (за каждый патрон)	1
Сумма штрафных баллов <u>2</u>		

Оценка задания с учётом штрафных баллов 10 – <u>8</u> = <u>1' 40.66</u>	Подпись судьи 
--	---

ЗАДАНИЕ 4 . Надевание общевойскового защитного комплекта (ОЗК)

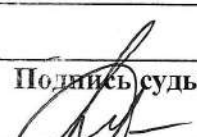
Оценка задания. Максимальная оценка за правильно выполненное задание – 20 баллов.

3,37

№ п/п	Ошибки	Штраф (баллы)
1.	Не надет капюшон	5
2.	Перчатки не заправлены в рукава (за каждую ошибку)	3
3.	Перекося шлем-маски противогаза	5
4.	Не застёгнуты шпальки на плаще и чулках (за каждую ошибку)	3
5.	Неправильно застёгнуты борта плаща	10
6.	Не подвязаны тесёмки	5
7.	Нарушена последовательность надевания ОЗК	10
8.	Разрыв нити, имитирующей проволочную «растяжку»	20
9.	Задание не выполнялось	20
Сумма штрафных баллов		
Оценка задания с учётом штрафных баллов 20 – <u>1</u> = <u>80</u>		Подпись судьи 

ЗАДАНИЕ 5. Вязка узлов.

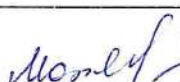
Оценка задания. Максимальная оценка за правильно выполненное задание – 35 баллов.

№ п/п	Ошибки	Штраф (баллы)
1.	Не завязан или неправильно завязан контрольный узел (за каждую ошибку)	5
2.	Перекручены пряди в узле (за каждую ошибку)	5
3.	Узел не затянут (за каждую ошибку)	5
4.	Узел развязался или изменил рисунок (за каждую ошибку)	7
5.	Завязан узел, не соответствующий заданию (за каждую ошибку)	7
6.	Задание не выполнялось	35
Сумма штрафных баллов		
Оценка задания с учётом штрафных баллов 35 – = <u>35</u>		Подпись судьи 


ЗАДАНИЕ 6. Оказание первой помощи пострадавшему в состоянии клинической смерти.

Оценка задания. Максимальная оценка за правильно выполненное задание

– 15 баллов.

№ п/п	Перечень ошибок и погрешностей	Штраф (баллы)
1	Не определено наличие дыхания с помощью слуха, зрения и осязания	5
2	Не проверен пульс на сонной артерии (на любой из магистральных артерий)	15
3	Не сделано освобождение грудной клетки от одежды	2
4	Не ослаблен поясной ремень (не расстегнут пояс)	2
5	Не проверена проходимость дыхательных путей (не очищена ротовая полость)	2
6	При входе ИВЛ не запрокидывается голова пострадавшего	2
7	При входе ИВЛ не зажат нос	2
8	Вдох ИВЛ сделан без защитной маски (нарушение собственной техники безопасности)	15
9	После проведения комплекса реанимации или только нажатий непрямого массажа сердца (давления руками на грудину пострадавшего) в течение 2-х минут не появился пульс (при наличии функции индикации на тренажере)	15
10	Перелом каждого ребра (при наличии функции индикации на тренажере)	2
11	Перелом 6-ти ребер (при наличии функции индикации на тренажере)	15
12	Некорректное обращение с пострадавшим	2
13	Помощь пострадавшему не оказана	15
	Сумма штрафных баллов	
	Оценка задания с учётом штрафных баллов 15 – 2 = 13	Подпись судьи 

Максимальная оценка – 100 баллов, фактическая оценка 94 баллов

Подписи членов жюри 

ВСЕРОССИЙСКАЯ ОЛИМПИАДА ШКОЛЬНИКОВ ПО ОСНОВАМ
БЕЗОПАСНОСТИ И ЗАЩИТЫ РОДИНЫ
(МУНИЦИПАЛЬНЫЙ ЭТАП)
ТЕОРЕТИЧЕСКИЙ ТУР
третья возрастная группа (10 класс)
Код/шифр участника

05	ЗР	-	10	-	09
----	----	---	----	---	----

Уважаемый участник Олимпиады!

Вам предстоит выполнить теоретические (письменные) и тестовые задания.

Время выполнения заданий теоретического тура 2 академических часа (90 минут).

Выполнение теоретических (письменных) заданий целесообразно организовать следующим образом:

– не спеша, внимательно прочитайте задание и определите, наиболее верный и полный ответ;

– отвечая на теоретический вопрос, обдумайте и сформулируйте конкретный ответ только на поставленный вопрос;

– если Вы отвечаете на задание, связанное с заполнением таблицы или схемы, не старайтесь детализировать информацию, вписывайте только те сведения или данные, которые указаны в вопросе;

– особое внимание обратите на задания, в выполнении которых требуется выразить Ваше мнение с учетом анализа ситуации или поставленной проблемы. Внимательно и вдумчиво определите смысл вопроса и логику ответа (последовательность и точность изложения). Отвечая на вопрос, предлагайте свой вариант решения проблемы, при этом ответ должен быть кратким, но содержать необходимую информацию;

– после выполнения всех предложенных заданий еще раз удостоверьтесь в правильности выбранных Вами ответов и решений.

Выполнение тестовых заданий целесообразно организовать следующим образом:

– не спеша, внимательно прочитайте тестовое задание;

– определите, какой из предложенных вариантов ответа наиболее верный и полный;

– обведите кружком букву, соответствующую выбранному Вами ответу;

– продолжайте таким образом работу до завершения выполнения тестовых заданий;

– после выполнения всех предложенных заданий еще раз удостоверьтесь в правильности выбранных Вами ответов;

– если потребуется корректировка выбранного Вами варианта ответа, то неправильный вариант ответа зачеркните крестиком, а новый выбранный ответ обведите кружком.

Предупреждаем Вас, что:

– при оценке тестовых заданий, где необходимо определить один *правильный ответ*, 0 баллов выставляется как за неверный ответ, а также, если участником отмечены несколько ответов (в том числе правильный), или все ответы;

– при оценке тестовых заданий, где необходимо определить все *правильные ответы*, 0 баллов выставляется, если участником отмечено большее количество ответов, чем предусмотрено в задании (в том числе правильные ответы) или все ответы.

Задание теоретического тура считается выполненным, если Вы вовремя сдаете его членам жюри. **Максимальная оценка - 100 баллов.**

Желаем вам успеха!

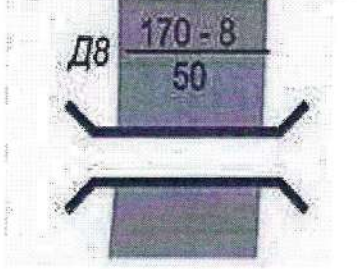

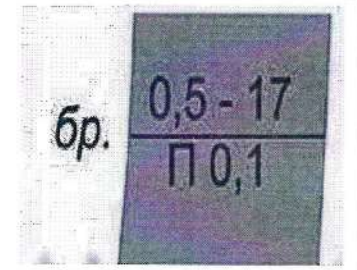

Общая оценка результата выполнения участником заданий теоретического тура 36 баллов

Председатель жюри _____

Монды

МОДУЛЬ 1

ЗАДАНИЕ 1. Определите названия (значения) условных топографических знаков по их изображениям. Расшифруйте пояснительные условные знаки.

Изображение	Название	Расшифровка
		
		
		
		

Оценочные баллы: максимальный — 6 баллов; фактический — 0 баллов

Подписи членов жюри _____

Handwritten signature

ЗАДАНИЕ 2. Прочитайте текст и напишите пропущенные слова.

А) Неинфекционные заболевания (НИЗ), также известные как хронические заболевания, как правило, имеют продолжительное течение и являются результатом воздействия комбинации генетических, физиологических, экологических и поведенческих факторов.

В структуре смертности от НИЗ, по данным Всемирной организации здравоохранения, наибольшая доля приходится на молодую часть населения
с развитой степенью заболевания.

Б) Прочитайте текст. Определите по перечисленным признакам о каком неотложном состоянии идёт речь в тексте.

Начинается с боли или неприятного ощущения в центре грудной клетки, которые продолжаются несколько минут или постоянно повторяются. Боль или неприятное ощущение может чувствоваться в руках, левом плече, локтевой области, челюсти или в спине. Другие симптомы включают:

- затрудненное дыхание или одышку;
- ощущение тошноты или рвоту;
- появление головокружения или слабости;
- появление холодного пота, бледности на лице.

Р Ответ: мишечное отравление

В) Опишите мероприятия первой помощи пострадавшему, у которого отмечаются признаки, перечисленные в части «Б» задания (пострадавший в сознании).

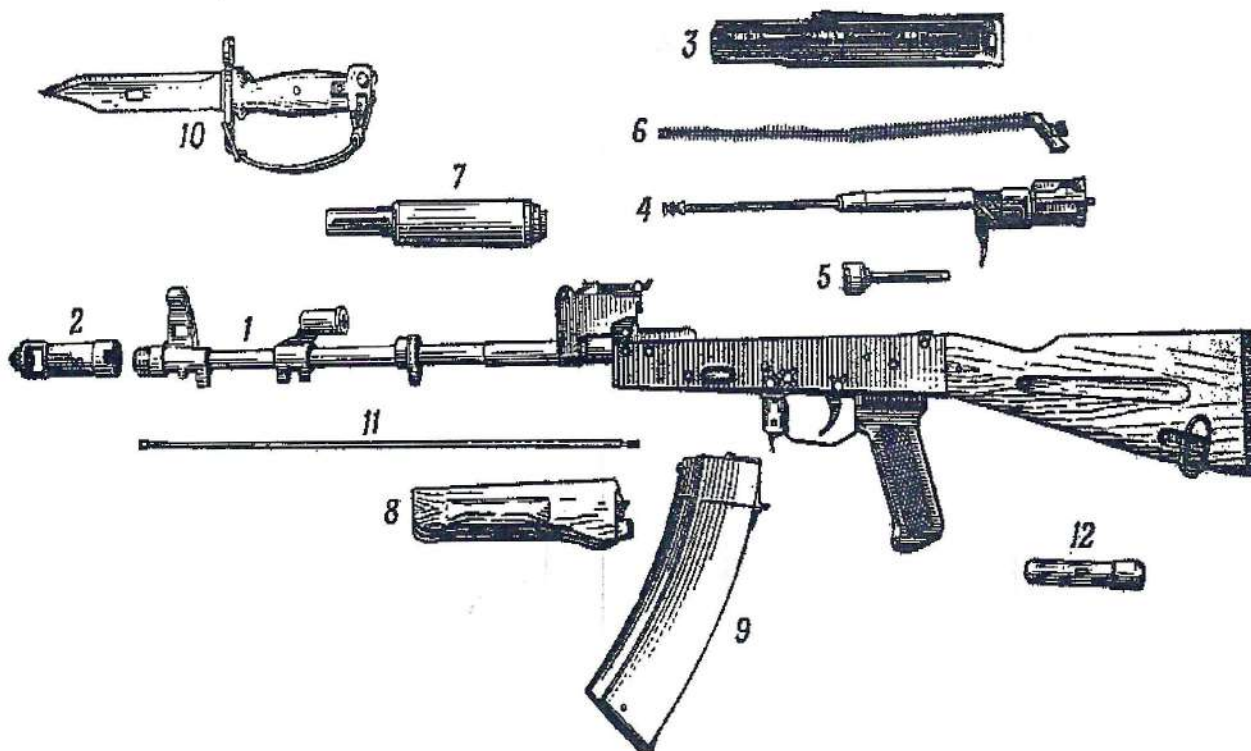
1. ввести или вынуть человека на свежий воздух.
2. обеспечить прямое и свободное попадание кислорода в дыхательные пути
3. следить за тем, чтобы человек не нанёс вреда самому себе, делать дыхательные упражнения и много воды.
4. контролировать его состояние и ждать приезда скорой помощи оставаясь с пострадавшим.

Оценочные баллы: максимальный – 6 баллов; фактический – 1 баллов

Подписи членов жюри Handwritten signature

ЗАДАНИЕ 3. Опишите назначение 5,45-мм автомата Калашникова АК-74м, название основных частей и механизмов автомата и его принадлежностей

Назначение 5,45-мм автомата Калашникова АК-74м оборона и защита
жизни человека, а также используется в учебных
целях для обучения стрелков.



Название основных частей и механизмов автомата АК-74м и его принадлежностей

1 - ствол, 2 - дульный тормоз, 3 - крышка ствольной коробки, 4 - затворная рама, 5 - затвор, 6 - возвратный механизм, 7 - газовая трубка, 8 - магазин, 9 - магазин, 10 - клиновидный нож, 11 - шомпол, 12 - пенал

Оценочные баллы: максимальный - 7 баллов; фактический - 4 баллов

Подписи членов жюри

Handwritten signature

ЗАДАНИЕ 4. Селевые потоки зарождаются в горной местности и движутся по руслам рек, оврагам, имеющим в своих верховьях уклоны. Заполните схему, вписав три обязательных условия, совпадение которых необходимо для возникновения селя.

1. наиболее погодные условия - дождь, а именно по дачная продолжаться несть или смена.

2. вид почвы глинистый, черноземный.

3. наклон и ширина местности.

Оценочные баллы: максимальный - 4 балла; фактический - 0 баллов

Подписи членов жюри Мамед

ЗАДАНИЕ 5. Определите, поставив знак «+» в колонки «Ответ», какие поражающие факторы землетрясений и извержения вулканов относятся к первичным, а какие - к вторичным.







	Ответ		Ответ	
ПЕРВИЧНЫЕ ПОРАЖАЮЩИЕ ФАКТОРЫ	+	аварии на опасных объектах, транспорте		ВТОРИЧНЫЕ ПОРАЖАЮЩИЕ ФАКТОРЫ
		вулканические бомбы (застывшие кусочки лавы)	+	
	+	каменная пена (пемза)		
	+	лавовые фонтаны		
		наводнения из-за запруживания рек	+	
	x	обвалы, оползни		
	x	обрыв линий электропередач, газопроводных и канализационных сетей		
		палящая туча (раскаленные пыль, газы)	+	
		потоки вулканической грязи	+	
	+	разрушение зданий, сооружений и коммуникаций		
	+	смещение, вибрация почвогрунтов		

Оценочные баллы: максимальный – 11 баллов; фактический – 4 баллов

Подписи членов жюри

Handwritten signature

ЗАДАНИЕ 6. Определите и отметьте знаком «+» в колонки «Ответ», какие из приведённых дорожных знаков запрещают движение автомобилей, а какие мотоциклов.

	Ответ		Ответ	
ЗНАКИ, ЗАПРЕЩАЮЩИЕ ДВИЖЕНИЕ АВТОМОБИЛЕЙ	+			ЗНАКИ, ЗАПРЕЩАЮЩИЕ ДВИЖЕНИЕ МОТОЦИКЛОВ
	+			
	+			
			+	
	+		+	
			+	

Оценочные баллы: максимальный – 8 баллов; фактический – 4 баллов

Подписи членов жюри

Mandy

ЗАДАНИЕ 7. Определите, поставив знак «+», какие мероприятия, проводимые органами управления и силами РСЧС относятся к режиму повседневной деятельности, а какие к режиму повышенной готовности.

В РЕЖИМЕ ПОВСЕДНЕВНОЙ ДЕЯТЕЛЬНОСТИ		Введение при необходимости круглосуточного дежурства руководителей и должностных лиц органов управления и сил единой системы на стационарных пунктах управления	+	В РЕЖИМЕ ПОВЫШЕННОЙ ГОТОВНОСТИ
	+	Изучение состояния окружающей среды и прогнозирование чрезвычайных ситуаций		
	+	Непрерывный сбор, обработка и передача органам управления и силам единой системы данных о прогнозируемых чрезвычайных ситуациях, информирование населения о чрезвычайных ситуациях		
		Осуществление в пределах своих полномочий необходимых видов страхования	+	
		Планирование действий органов управления и сил единой системы, организация подготовки и обеспечения их деятельности	+	
		Подготовка населения к действиям в чрезвычайных ситуациях, в том числе при получении сигналов экстренного оповещения	+	
		Принятие оперативных мер по предупреждению возникновения и развития чрезвычайных ситуаций, снижению размеров ущерба и потерь в случае их возникновения, а также повышению устойчивости и безопасности функционирования организаций в чрезвычайных ситуациях		
	+	Пропаганда знаний в области защиты населения и территорий от чрезвычайных ситуаций и обеспечения пожарной безопасности		
	+	Разработка и реализация целевых и научно-технических программ и мер по предупреждению чрезвычайных ситуаций и обеспечению пожарной безопасности		
	+	Руководство созданием, размещением, хранением и восполнением резервов материальных ресурсов для ликвидации чрезвычайных ситуаций		
	Усиление контроля за состоянием окружающей среды, прогнозирование возникновения чрезвычайных ситуаций и их последствий	+		

Оценочные баллы: максимальный – 11 баллов; фактический – 6 баллов

Подписи членов жюри

Handwritten signature

ЗАДАНИЕ 8. В тексте, приведённом ниже, содержатся полномочия Президента Российской Федерации и полномочия Правительства Российской Федерации в области гражданской обороны. Разделите их, поставив напротив полномочий Президента – цифру 1, напротив полномочий Правительства – цифру 2.

Полномочия в области гражданской обороны	Ответ (цифра)
Определяет основные направления единой государственной политики в области гражданской обороны	1 +
Обеспечивает проведение единой государственной политики в области гражданской обороны	2 +
Определяет порядок приведения в готовность гражданской обороны	2 +
Утверждает План гражданской обороны и защиты населения Российской Федерации	1 +
Определяет порядок создания убежищ и иных объектов гражданской обороны, а также порядок накопления, хранения и использования в целях гражданской обороны запасов материально-технических, продовольственных, медицинских и иных средств	2 +
Вводит в действие План гражданской обороны и защиты населения Российской Федерации на территории Российской Федерации или в отдельных ее местностях в полном объеме или частично	1 +
Издаёт нормативные правовые акты в области гражданской обороны и организует разработку проектов федеральных законов в области гражданской обороны	2 +

Оценочные баллы: максимальный – 14 баллов; фактический – 14 баллов
 Подписи членов жюри Мамедов

МОДУЛЬ 2
Тестовые задания

№ п/п	Тестовые задания	Макс. балл	Кол-во набранных баллов
Определите <u>один</u> правильный ответ			
1.	<p>В случае, если велосипедисту необходимо объехать стоящий у тротуара автомобиль, он должен:</p> <p>а) объехать автомобиль слева, убедившись в безопасности маневра;</p> <p><input checked="" type="radio"/> б) подать рукой сигнал перестроения налево, убедиться в безопасности объезда и только после этого совершить маневр;</p> <p>в) подать сигнал и совершить объезд препятствия (сигнал дает велосипедисту преимущество);</p> <p>г) дождаться, когда автомобиль начнет движение.</p>	1	1
2.	<p>При пероральном отравлении нельзя вызывать рвоту у пострадавшего, если:</p> <p>а) у пострадавшего уже была рвота;</p> <p>б) произошло отравление лекарственными препаратами;</p> <p>в) отравление произошло, но он хорошо себя чувствует;</p> <p><input checked="" type="radio"/> г) произошло отравление веществами прижигающего действия.</p>	1	1
3.	<p>Знак дорожного движения «Конец всех ограничений» относится к группе:</p> <p>а) предупреждающие знаки;</p> <p><input checked="" type="radio"/> б) знаки приоритета;</p> <p>в) запрещающие знаки;</p> <p>г) предписывающие знаки.</p>	1	0
4.	<p>Продолжительность рабочего времени для трудящихся в возрасте до 16 лет должна быть не более:</p> <p>а) четырех часов в течение одного рабочего дня;</p> <p>б) 16 часов в неделю;</p> <p><input checked="" type="radio"/> в) 8 часов в неделю;</p> <p>г) 24 часов в неделю.</p>	1	0

5.	<p>Чрезвычайное положение на всей территории Российской Федерации или в её отдельных местностях вводится:</p> <p><input checked="" type="radio"/> а) Указом Президента Российской Федерации;</p> <p><input type="radio"/> б) Постановлением Правительства Российской Федерации;</p> <p><input type="radio"/> в) Постановлением Верховного Суда Российской Федерации;</p> <p><input type="radio"/> г) Постановлением Государственной Думы Российской Федерации;</p> <p><input type="radio"/> д) Постановлением Совета Федерации Российской Федерации.</p>	1	1
6.	<p>Аварии на коммунальных системах по скорости распространения относятся к:</p> <p><input checked="" type="radio"/> а) внезапным;</p> <p><input type="radio"/> б) стремительным;</p> <p><input type="radio"/> в) умеренным;</p> <p><input type="radio"/> г) плавным.</p>	1	0
7.	<p>Одной из причин осечки в АК-74 М является:</p> <p><input type="radio"/> а) неисправность защелки магазина;</p> <p><input type="radio"/> б) загрязнение трущихся частей, газовых путей или патронника;</p> <p><input checked="" type="radio"/> в) заклинивание ударника в затворе;</p> <p><input type="radio"/> г) неисправность пружины возвратного механизма.</p>	1	1
8.	<p>Перестроение отделения из развёрнутого строя в колонну производится по команде:</p> <p><input type="radio"/> а) отделение, в колонну – становись;</p> <p><input checked="" type="radio"/> б) отделение, в колонну по одному (по два) – становись;</p> <p><input type="radio"/> в) отделение, напра-ВО;</p> <p><input type="radio"/> г) отделение, нале-ВО.</p>	1	0
9.	<p>Корабельное воинское звание «старшина 1 статьи»:</p> <p><input type="radio"/> а) соответствует войсковому воинскому званию «сержант»;</p> <p><input checked="" type="radio"/> б) старше по званию войскового воинского звания «сержант»;</p> <p><input type="radio"/> в) младше по званию войскового воинского звания «сержант»;</p> <p><input type="radio"/> г) соответствует войсковому воинскому званию «старшина».</p>	1	0
10.	<p>Поражение электрическим током напряжением до 380 В, вызывает у пострадавшего следующее повреждение:</p> <p><input type="radio"/> а) электрические метки;</p> <p><input type="radio"/> б) судороги и спазм дыхательной мускулатуры;</p> <p><input type="radio"/> в) отек мозга;</p> <p><input checked="" type="radio"/> г) разрывы внутренних органов.</p>	1	0

Определите <u>все</u> правильные ответы			
11.	<p>Отметьте признаки будущего ухудшения погоды:</p> <p>а) воробьи «купаются» в пыли;</p> <p>б) ель распрямляет длинные ветви;</p> <p><input checked="" type="checkbox"/> в) утром туман стелется по земле;</p> <p>г) вечером сильно пахнет травой;</p> <p><input checked="" type="checkbox"/> д) вечерняя заря красного цвета;</p> <p>е) вечером небо золотистого или розового цвета.</p>	3	1
12.	<p>Контрольные узлы обязательно вяжутся на следующих туристических узлах:</p> <p><input checked="" type="checkbox"/> а) ткацкий;</p> <p>б) грейпвайн;</p> <p><input checked="" type="checkbox"/> в) двойной проводник;</p> <p><input checked="" type="checkbox"/> г) академический;</p> <p>д) австрийский проводник.</p>	2	0
13.	<p>Признаками приближения бури, урагана и смерча могут служить:</p> <p><input checked="" type="checkbox"/> а) усиление скорости ветра;</p> <p>б) подъем уровня воды;</p> <p><input checked="" type="checkbox"/> в) резкое падение атмосферного давления;</p> <p>г) быстрое обнажение морского дна.</p>	2	2
14.	<p>Роль окислителя при возникновении и развитии пожара может выполнять:</p> <p>а) азот;</p> <p>б) окислы азота;</p> <p><input checked="" type="checkbox"/> в) метан;</p> <p><input checked="" type="checkbox"/> г) пропан;</p> <p>д) фтор.</p>	2	0
15.	<p>На вооружении спасательных воинских формирований федерального органа исполнительной власти, уполномоченного на решение задач в области гражданской обороны, находится:</p> <p><input checked="" type="checkbox"/> а) специальная техника;</p> <p><input checked="" type="checkbox"/> б) боевое ручное стрелковое оружие;</p> <p>в) бронетанковая техника;</p> <p>г) средства установки минных заграждений;</p> <p><input checked="" type="checkbox"/> д) средства борьбы с воздушными целями.</p>	2	0

16.	<p>Основными загрязнителями воздуха являются:</p> <p>а) нефтепродукты; б) пестициды; в) сажа; г) углеводороды.</p>	2	2
17.	<p>Первичные средства пожаротушения подразделяются на следующие типы:</p> <p>а) средства пожарной сигнализации; б) пожарный инвентарь; в) пожарные машины; г) генераторные огнетушители аэрозольные переносные.</p>	2	0
18.	<p>Офицер в звании капитан-лейтенант является начальником для всех:</p> <p>а) мичманов; б) сержантов; в) лейтенантов; г) прапорщиков; д) старших матросов.</p>	2	0
19.	<p>К личному оружию военнослужащих относятся:</p> <p>а) граната ручная; б) гранатомёт станковый; в) карабин; г) лопата малая сапёрная; д) пистолет; е) автомат.</p>	3	2
20.	<p>Укажите даты – Дни воинской славы – установленные в честь морских побед Российского флота:</p> <p>а) 02 февраля; б) 07 июля; в) 10 июля; г) 09 августа; д) 23 августа; е) 11 сентября.</p>	3	0
	Количество баллов	max 33	11

Подписи членов жюри

Handwritten signature