

ШИФР Т-04-02

ВСЕРОССИЙСКАЯ ОЛИМПИАДА ШКОЛЬНИКОВ
ТРУД (ТЕХНОЛОГИЯ)
МУНИЦИПАЛЬНЫЙ ЭТАП
ТЕОРЕТИЧЕСКИЙ ТУР
2024-/2025 УЧЕБНЫЙ ГОД
7 КЛАСС

Профиль «Культура дома, дизайн и технологии»

Бланк ответов

Общая часть.

Вопрос 1. (1 балл)

Ответ: а

Вопрос 2. (1 балл)

Ответ: 1 - а ; 2 - б ; 3 - г ; 4 - д

Вопрос 3. (1 балл)

Ответ: 3

Вопрос 4. (1 балл)

Ответ: в д е

Вопрос 5. (1 балл)

Ответ: а б

Специальная часть

Вопрос 6. (1 балл)

Ответ: Белки, Белка

Вопрос 7. (1 балл)

Ответ: Шведский сталь

ШИФР T-07-02

Вопрос 8. (1 балл)

Ответ: В

Вопрос 9. (1 балл)

Ответ: Это блюдо относится к узбекской кухне.

Вопрос 10. (1 балл)

Ответ: Эту машину используют для просеивания муки

Вопрос 11. (1 балл)

Ответ: Ушица от плеча до талии.

Вопрос 12. (1 балл)

Ответ: сантиметровая лента прикладывается к плечу
отметкой 0 и делается замер до линии
талии.

Вопрос 13. (1 балл)

Ответ: 1 - в ; 2 - г ; 3 - а ; 4 - б

Вопрос 14. (1 балл)

Ответ: лапка

Вопрос 15. (1 балл)

Ответ: а

Вопрос 16. (1 балл)

Ответ: сборка

Вопрос 17. (1 балл)

Ответ: 3

ШИФР T-04-01

Вопрос 18. (1 балл)

Ответ: да

Вопрос 19. (1 балл)

Ответ: 10 000

Вопрос 20. (1 балл)

Ответ: _____

21. Кейс- задание (5 баллов)

21.1. (1 балл) црго

21.2. (2 балла)

Црго богата витаминами.

21.3. (2 балла)

качнат, варенье, море,

Подписи членов жюри: председатели жюри

Шифр Т-04-02 -

ВСЕРОССИЙСКАЯ ОЛИМПИАДА ШКОЛЬНИКОВ
ТРУД (ТЕХНОЛОГИЯ) 2024–2025 уч. г.
МУНИЦИПАЛЬНЫЙ ЭТАП
7 класс

Номинация «Культура дома, дизайн и технологии» Практический тур

Внимание! Необходимо выполнить обе практические работы.

Максимальная оценка за обе работы – 35 баллов.

Время выполнения двух заданий практического тура- 180 минут.

**Практическая работа №1
Моделирование фартука**

Задание

1. Внимательно прочтите описание предложенной модели, рассмотрите эскиз и чертёж основы фартука с нагрудником.
2. Используя лист для вырезания, подготовьте шаблон основы фартука с нагрудником.
3. На бланке ответов (бланк № 1) «Нанесение фасонных линий» подготовьте чертёж основы фартука с нагрудником (обведите шаблон).
4. На обведённом чертеже основы фартука с нагрудником нанесите новые фасонные линии в соответствии с предложенным эскизом.
5. Выполните моделирование: из бумаги изготовьте детали выкройки для раскладки на ткани. Клей не использовать.
6. На бланке ответов (бланк № 2) «Результат моделирования» разложите все детали с учётом сгиба ткани и направления долевой нити. Обведите детали выкройки.
7. Нанесите на детали выкройки надписи, необходимые для раскроя изделия.

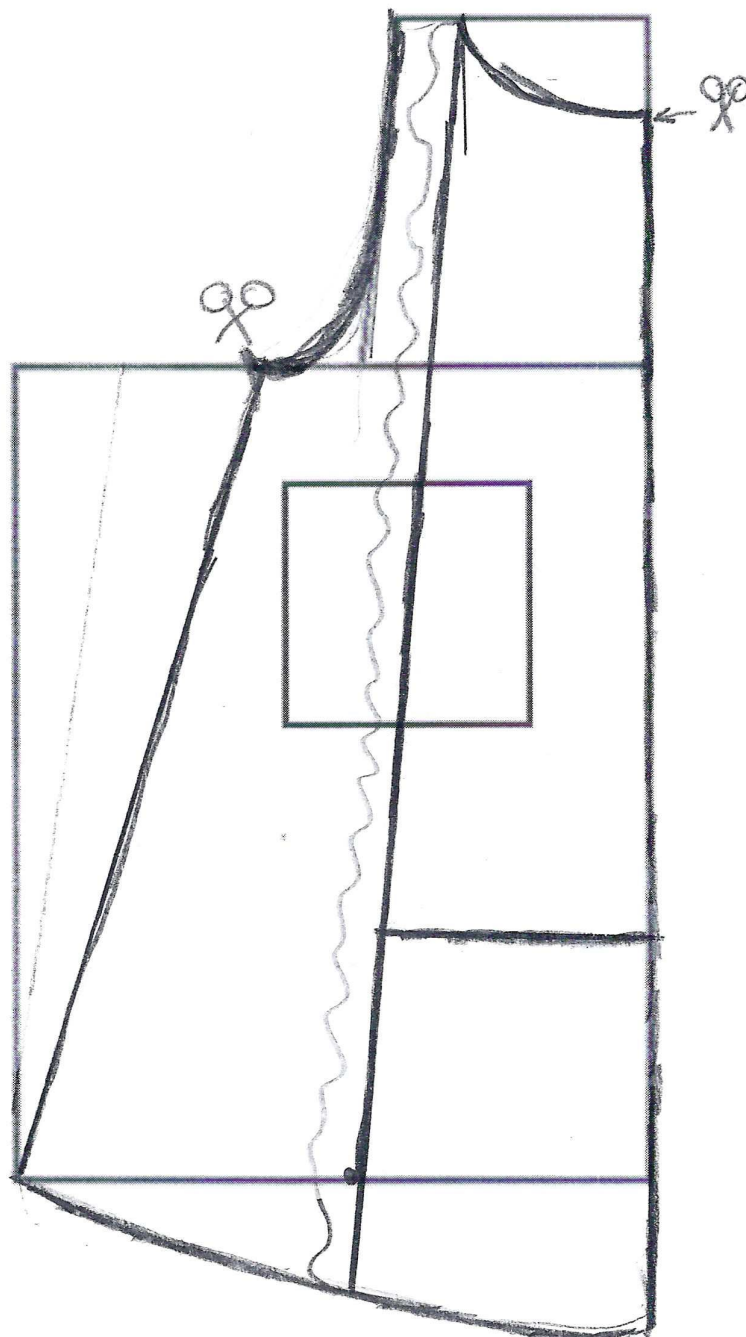
Шифр Т-04-02.

Эскиз модели	Описание внешнего вида модели
	<p>Фартук цельнокроеный на бретелях с двумя рельефными линиями, фигурной линией низа и верха.</p> <p>В рельефных швах располагаются оборки.</p> <p>В нижней части средней детали фартука расположен карман.</p> <p>Фартук завязывается сзади на пояс.</p>

Шифр Т-02-02

Бланк №1

Нанесение фасонных линий



Шифр T-04-02

Карта пооперационного контроля

№	Критерии контроля	Баллы	Баллы по факту
I	Нанесение линий фасона на основу чертежа (бланк ответов № 1)	3	
1	Нанесение линии объединения нагрудника и нижней части фартука	0,3	0,3
2	Наличие на чертеже значка «разрезать»	0,3	0,3
3	Нанесение линий рельефов	0,3	0
4	Нанесение фигурной линии низа	0,3	0,3
5	Нанесение фигурной линии верха фартука	0,4	0,4
6	Нанесение линии кармана	0,4	0,4
7	Построение оборки по линии рельефа	0,5	0,5
8	Выполнение полного комплекта деталей (средняя часть фартука, боковая часть фартука, карман, пояс, бретель, оборка)	0,5	0,5
II	Подготовка выкройки к раскрою (бланк ответов № 2)	12	
1	Нанесение деталей выкройки на бланк ответов с соблюдением направления нити основы	0,3	0,3
2	Наличие надписи названия детали средней части фартука	0,3	0,3
3	Наличие надписи названия детали боковой части фартука	0,4	0,4
4	Наличие надписи названия детали кармана	0,3	0,3
5	Наличие надписи названия детали пояса	0,3	0,3
6	Наличие надписи названия детали бретели	0,4	0,4
7	Наличие надписи названия детали оборки по линии рельефа	0,3	0,3
8	Указание количества деталей средней части фартука	0,3	0,3
9	Указание количества деталей боковой части фартука	0,4	0,4
10	Указание количества деталей кармана	0,5	0,5
11	Указание количества деталей пояса	0,5	0,5
12	Указание количества деталей бретели	0,5	0,5
13	Указание количества деталей оборки по линии рельефа	0,5	0,5
14	Наличие направления нити основы на детали средней части фартука	0,5	0,5
15	Наличие направления нити основы на детали боковой части фартука	0,5	0,5
16	Наличие направления нити основы на кармане	0,5	0,5
17	Наличие направления нити основы на поясе	0,5	0,5
18	Наличие направления нити основы на бретели	0,5	0,5
19	Наличие направления нити основы на оборке по линии рельефа	0,5	0,5
20	Припуски на обработку детали средней части фартука	0,5	0,5
21	Припуски на обработку детали боковой части фартука	0,5	0,5
22	Припуски на обработку кармана	0,5	0,5
23	Припуски на обработку пояса	0,5	0,5
24	Припуски на обработку бретели	0,5	0,5
25	Припуски на обработку оборки по линии рельефа	0,5	0,5
26	Указание линии сгиба на детали средней части фартука	0,5	0,5
27	Указание линии сгиба на кармане	0,5	0,5
	Итого	15	14,7


Подписи жюри председатель жюри Ежикова О.В. / ЕЖ



ДА ШКОЛЬНИКОВ
24–2025 уч. г.
П. 7 КЛАСС
«Технология»
ур

Все практические работы.
Работы – 35 баллов.
Времени – 180 минут.

Работа №2
«Салфетка»



Задание

Внимательно прочитайте задание, рассмотрите рисунки и схемы технологической последовательности выполнения работы.

Подготовьте крой салфетки к работе, определите лицевую сторону детали.

Выполните работу, следуя технологической последовательности.

Выполните самоконтроль работы.

Шифр Т 07-02

Материалы и инструменты: хлопчатобумажная ткань светлых тонов размером 19×19 см, рабочая коробка или папка с инструментами и приспособлениями для швейных работ.

Оборудование и приспособления: швейная машина, утюг, гладильная доска, проутюжильник.

Самоконтроль:

- машинные строчки должны быть ровные и аккуратные, выполненные в соответствии с заданием и требованиями технических условий;
- выполненные операции должны соответствовать заданию;
- должны соблюдаться правила безопасной работы и санитарно-гигиенические требования.

Максимальная оценка: **20 баллов.**

Шифр Г 07-02

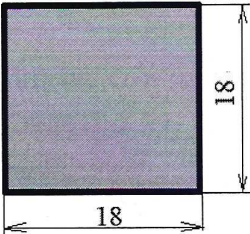
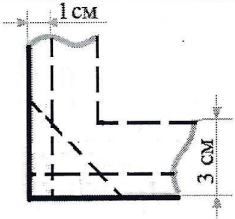
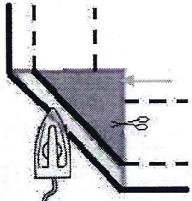
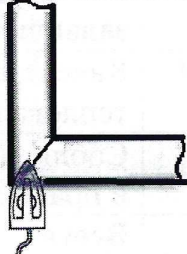
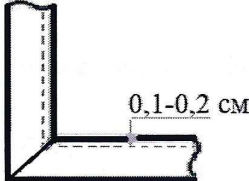
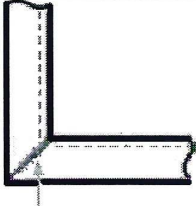
**Карта пооперационного контроля к практической работе
«Обработка краёв сервировочной салфетки»**

№ п/п	Контролируемые параметры	Максимальное количество баллов	Баллы по факту
1	Соблюдение правил раскроя	1	1
2	Соответствие выкроенной детали заданным параметрам	1	1
3	Ширина подгиба салфетки одинакова по всем сторонам	1	1
4	Качество выполнения шва застрачивания (0,1–0,2 см от края)	2	2
5	Качество поворотов строчки в углах салфетки	2	2
6	Наличие и качество закрепок (0,5–0,7 см)	2	0
7	Качество потайного шва	2	2
8	Окончательная отделка выполненного образца (обрезка ниток, удаление стежков временного назначения)	2	1
9	Симметричность изделия	2	2
10	Выполненная работа соответствует заданию	2	2
11	Качественно выполненная влажно-тепловая обработка изделия	2	2
12	Соблюдение правил безопасной работы и правильная организация рабочего места	1	1
	Всего	20	17

Подписи членов жюри председатель жюри Зикитина О.В. АА

Шифр T-09-02

**Технологическая последовательность выполнения практической работы
«Обработка краёв сервировочной салфетки»**

№ п/п	Последовательность операций	Технические условия Изображение операции
1	Проверьте качество детали края. Определите лицевую и изнаночную стороны. Осноруйте деталь. Деталь должна соответствовать размеру 18 × 18 см	
2	На лицевой стороне разметьте ширину подгиба параллельно срезам детали (см. технический рисунок)	
3	Углы вдоль меловых линий направьте на изнаночную сторону, края сгибов углов приутюжьте. Обрежьте углы на расстоянии 1 см от сгиба (технический рисунок – выделенная часть)	
4	Срезы заутюжьте на изнаночную сторону по намеченным меловым линиям	
5	Заматайте, застрочите на расстоянии 0,1–0,2 см от края. Выполните чёткие повороты строчки в углах салфетки (на игле). В конце строчки поставьте закрепку	
6	В углах салфетки аккуратно соедините сгибы ткани, выполнив потайной шов	
7	Произведите окончательную ВТО с изнаночной стороны выполненной работы	<p>Температура утюга 180 °С * работа с тканями из хлопка и льна</p>

ШИФР Т-07-03

ВСЕРОССИЙСКАЯ ОЛИМПИАДА ШКОЛЬНИКОВ
ТРУД (ТЕХНОЛОГИЯ)
МУНИЦИПАЛЬНЫЙ ЭТАП
ТЕОРЕТИЧЕСКИЙ ТУР
2024-/2025 УЧЕБНЫЙ ГОД
7 КЛАСС

Профиль «Культура дома, дизайн и технологии»

Бланк ответов

Общая часть.

Вопрос 1. (1 балл)

Ответ: б

Вопрос 2. (1 балл)

Ответ: 1 - б ; 2 - б ; 3 - а ; 4 - з

Вопрос 3. (1 балл)

Ответ: 3

Вопрос 4. (1 балл)

Ответ: б, з.

Вопрос 5. (1 балл)

Ответ: б, а.

Специальная часть

Вопрос 6. (1 балл)

Ответ: белок

Вопрос 7. (1 балл)

Ответ: фуршет.

ШИФР Т-07-03

Вопрос 8. (1 балл)

Ответ: в)

Вопрос 9. (1 балл)

Ответ: к Украинской кухне.

Вопрос 10. (1 балл)

Ответ: для молодой семьи.

Вопрос 11. (1 балл)

Ответ: дальше.

Вопрос 12. (1 балл)

Ответ: Станов увеличивается уменьшается от ~~то~~ нуля.
Вниз и выше по уровню жизни.

Вопрос 13. (1 балл)

Ответ: 1 - а ; 2 - з ; 3 - в ; 4 - б

Вопрос 14. (1 балл)

Ответ: ли

Вопрос 15. (1 балл)

Ответ: а

Вопрос 16. (1 балл)

Ответ: ути шваши

Вопрос 17. (1 балл)

Ответ: 5

ШИФР T-07-03

Вопрос 18. (1 балл)

Ответ: да.

Вопрос 19. (1 балл)

Ответ: нет

Вопрос 20. (1 балл)

Ответ: _____

21. Кейс- задание (5 баллов)

21.1. (1 балл) Адмою

21.2. (2 балла)

В збюках оргшнни запас виджимов и
нитателыных вещей

21.3. (2 балла)

варенье, кашноб, джем.

Подписи членов жюри: председателя жюри Еф

Шифр Т-07-03

ВСЕРОССИЙСКАЯ ОЛИМПИАДА ШКОЛЬНИКОВ
ТРУД (ТЕХНОЛОГИЯ) 2024–2025 уч. г.
МУНИЦИПАЛЬНЫЙ ЭТАП
7 класс

Номинация «Культура дома, дизайн и технологии» Практический тур

Внимание! Необходимо выполнить обе практические работы.
Максимальная оценка за обе работы – 35 баллов.
Время выполнения двух заданий практического тура- 180 минут.

Практическая работа №1
Моделирование фартука

Задание

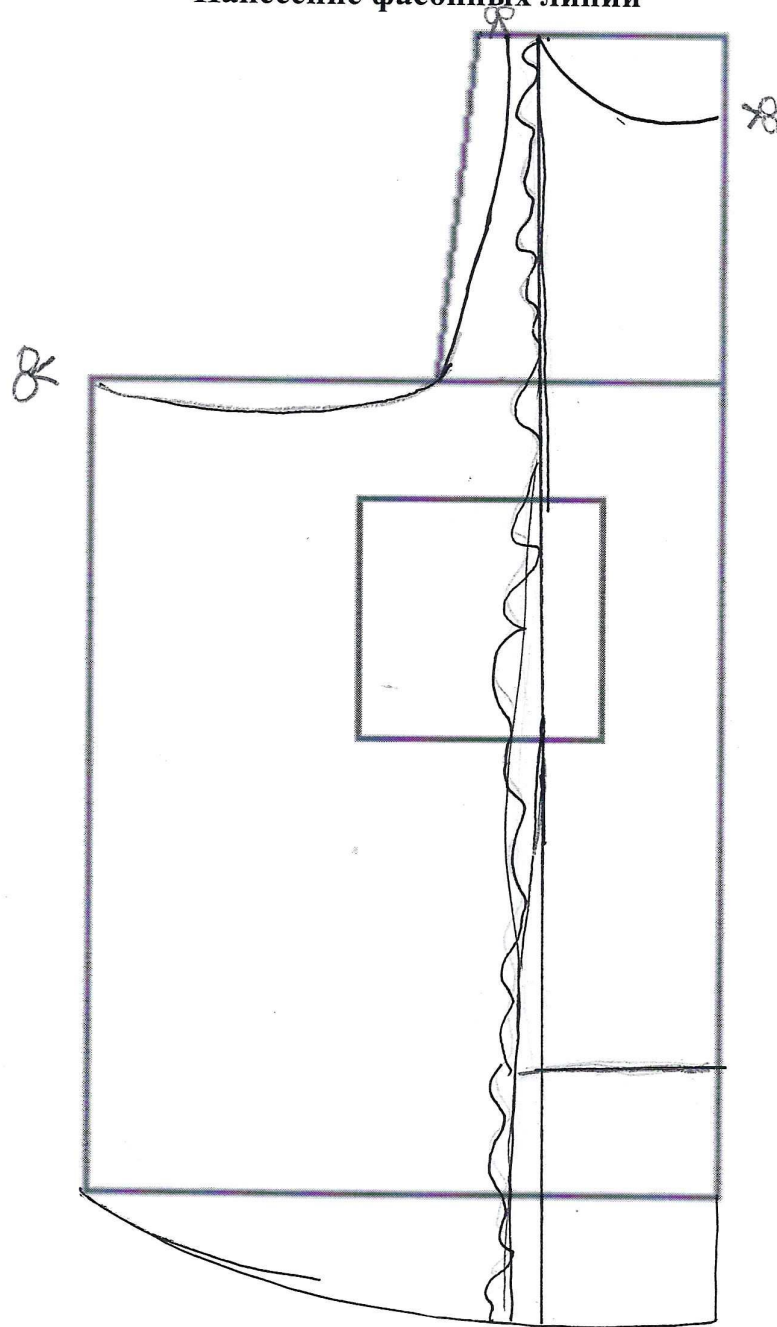
1. Внимательно прочтите описание предложенной модели, рассмотрите эскиз и чертёж основы фартука с нагрудником.
2. Используя лист для вырезания, подготовьте шаблон основы фартука с нагрудником.
3. На бланке ответов (бланк № 1) «Нанесение фасонных линий» подготовьте чертёж основы фартука с нагрудником (обведите шаблон).
4. На обведённом чертеже основы фартука с нагрудником нанесите новые фасонные линии в соответствии с предложенным эскизом.
5. Выполните моделирование: из бумаги изготовьте детали выкройки для раскладки на ткани. Клей не использовать.
6. На бланке ответов (бланк № 2) «Результат моделирования» разложите все детали с учётом сгиба ткани и направления долевой нити. Обведите детали выкройки.
7. Нанесите на детали выкройки надписи, необходимые для раскроя изделия.

Шифр Т-07-03

Эскиз модели	Описание внешнего вида модели
	<p>Фартук цельнокроеный на бретелях с двумя рельефными линиями, фигурной линией низа и верха.</p> <p>В рельефных швах располагаются оборки.</p> <p>В нижней части средней детали фартука расположен карман.</p> <p>Фартук завязывается сзади на пояс.</p>

Шифр Т-07-03


Бланк №1
Нанесение фасонных линий



Карта пооперационного контроля

№	Критерии контроля	Баллы	Баллы по факту
I	Нанесение линий фасона на основу чертежа (бланк ответов № 1)	3	
1	Нанесение линии объединения нагрудника и нижней части фартука	0,3	0
2	Наличие на чертеже значка «разрезать»	0,3	0,3
3	Нанесение линий рельефов	0,3	0,3
4	Нанесение фигурной линии низа	0,3	0,3
5	Нанесение фигурной линии верха фартука	0,4	0,4
6	Нанесение линии кармана	0,4	0,4
7	Построение оборки по линии рельефа	0,5	0,5
8	Выполнение полного комплекта деталей (средняя часть фартука, боковая часть фартука, карман, пояс, бретель, оборка)	0,5	0,5
II	Подготовка выкройки к раскрою (бланк ответов № 2)	12	
1	Нанесение деталей выкройки на бланк ответов с соблюдением направления нити основы	0,3	0,3
2	Наличие надписи названия детали средней части фартука	0,3	0,3
3	Наличие надписи названия детали боковой части фартука	0,4	0,4
4	Наличие надписи названия детали кармана	0,3	0,3
5	Наличие надписи названия детали пояса	0,3	0,3
6	Наличие надписи названия детали бретели	0,4	0,4
7	Наличие надписи названия детали оборки по линии рельефа	0,3	0,3
8	Указание количества деталей средней части фартука	0,3	0,3
9	Указание количества деталей боковой части фартука	0,4	0,4
10	Указание количества деталей кармана	0,5	0,5
11	Указание количества деталей пояса	0,5	0,5
12	Указание количества деталей бретели	0,5	0,5
13	Указание количества деталей оборки по линии рельефа	0,5	0,5
14	Наличие направления нити основы на детали средней части фартука	0,5	0,5
15	Наличие направления нити основы на детали боковой части фартука	0,5	0,5
16	Наличие направления нити основы на кармане	0,5	0,5
17	Наличие направления нити основы на поясе	0,5	0,5
18	Наличие направления нити основы на бретели	0,5	0,5
19	Наличие направления нити основы на оборке по линии рельефа	0,5	0,5
20	Припуски на обработку детали средней части фартука	0,5	0,5
21	Припуски на обработку детали боковой части фартука	0,5	0,5
22	Припуски на обработку кармана	0,5	0,5
23	Припуски на обработку пояса	0,5	0,5
24	Припуски на обработку бретели	0,5	0,5
25	Припуски на обработку оборки по линии рельефа	0,5	0,5
26	Указание линии сгиба на детали средней части фартука	0,5	0,5
27	Указание линии сгиба на кармане	0,5	0,5
	Итого	15	14,4

Подписи жюри председатель жюри Филиппов О.В. / О.В.



ДА ШКОЛЬНИКОВ

24-2025 уч. г.

П. 7 КЛАСС

«Технология»

ур


те практические работы.

работы – 35 баллов.

ического тура- 180 минут.

га №2

«...ной салфетки»



Задание

Внимательно прочитайте задание, рассмотрите рисунки и схемы технологической последовательности выполнения работы.

Подготовьте край салфетки к работе, определите лицевую сторону детали.

Выполните работу, следуя технологической последовательности.

Выполните самоконтроль работы.

Шифр Т 07-03

Материалы и инструменты: хлопчатобумажная ткань светлых тонов размером 19 × 19 см, рабочая коробка или папка с инструментами и приспособлениями для швейных работ.

Оборудование и приспособления: швейная машина, утюг, гладильная доска, проутюжильник.

Самоконтроль:

- машинные строчки должны быть ровные и аккуратные, выполненные в соответствии с заданием и требованиями технических условий;
- выполненные операции должны соответствовать заданию;
- должны соблюдаться правила безопасной работы и санитарно-гигиенические требования.

Максимальная оценка: **20 баллов.**

Шифр Т 07-03

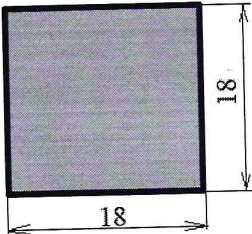
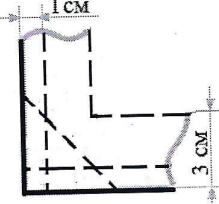
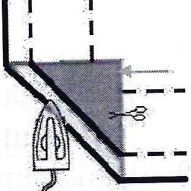
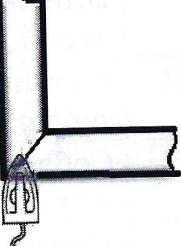
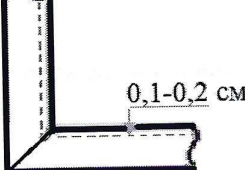

Карта пооперационного контроля к практической работе
«Обработка краёв сервировочной салфетки»

№ п/п	Контролируемые параметры	Максимальное количество баллов	Баллы по факту
1	Соблюдение правил раскроя	1	1
2	Соответствие выкроенной детали заданным параметрам	1	1
3	Ширина подгиба салфетки одинакова по всем сторонам	1	1
4	Качество выполнения шва застрачивания (0,1–0,2 см от края)	2	2
5	Качество поворотов строчки в углах салфетки	2	1
6	Наличие и качество закрепок (0,5–0,7 см)	2	2
7	Качество потайного шва	2	2
8	Окончательная отделка выполненного образца (обрезка ниток, удаление стежков временного назначения)	2	2
9	Симметричность изделия	2	2
10	Выполненная работа соответствует заданию	2	2
11	Качественно выполненная влажно-тепловая обработка изделия	2	2
12	Соблюдение правил безопасной работы и правильная организация рабочего места	1	1
	Всего	20	19

Подписи членов жюри президент жюри Гнездилова ОВ / ГГ

Шифр Т-07-03

**Технологическая последовательность выполнения практической работы
«Обработка краёв сервировочной салфетки»**

№ п/п	Последовательность операций	Технические условия Изображение операции
1	Проверьте качество детали края. Определите лицевую и изнаночную стороны. Осноровите деталь. Деталь должна соответствовать размеру 18 × 18 см	
2	На лицевой стороне разметьте ширину подгиба параллельно срезам детали (см. технический рисунок)	
3	Углы вдоль меловых линий направьте на изнаночную сторону, края сгибов углов приутюжьте. Обрежьте углы на расстоянии 1 см от сгиба (технический рисунок – выделенная часть)	
4	Срезы заутюжьте на изнаночную сторону по намеченным меловым линиям	
5	Заматайте, застрочите на расстоянии 0,1–0,2 см от края. Выполните чёткие повороты строчки в углах салфетки (на игле). В конце строчки поставьте закрепку	
6	В углах салфетки аккуратно соедините сгибы ткани, выполнив потайной шов	
7	Произведите окончательную ВТО с изнаночной стороны выполненной работы	<p>Температура утюга 180 °С * работа с тканями из хлопка и льна</p>

ШИФР Г-07-05

ВСЕРОССИЙСКАЯ ОЛИМПИАДА ШКОЛЬНИКОВ
ТРУД (ТЕХНОЛОГИЯ)
МУНИЦИПАЛЬНЫЙ ЭТАП
ТЕОРЕТИЧЕСКИЙ ТУР
2024-/2025 УЧЕБНЫЙ ГОД
7 КЛАСС

Профиль «Культура дома, дизайн и технологии»

Бланк ответов

Общая часть.

Вопрос 1. (1 балл)

Ответ: В

Вопрос 2. (1 балл)

Ответ: 1 - б ; 2 - г ; 3 - а ; 4 - в

Вопрос 3. (1 балл)

Ответ: 3

Вопрос 4. (1 балл)

Ответ: ВДЕ

Вопрос 5. (1 балл)

Ответ: БА

Специальная часть

Вопрос 6. (1 балл)

Ответ: БЕЛКА

Вопрос 7. (1 балл)

Ответ: РУШЕТНЫЙ

ШИФР Т-07-05

Вопрос 8. (1 балл)

Ответ: а

Вопрос 9. (1 балл)

Ответ: Русской

Вопрос 10. (1 балл)

Ответ: РАССЕИВАНИЕ МЯКИ

Вопрос 11. (1 балл)

Ответ: _____

Вопрос 12. (1 балл)

Ответ: _____

Вопрос 13. (1 балл)

Ответ: 1 - г ; 2 - в ; 3 - а ; 4 - б

Вопрос 14. (1 балл)

Ответ: ЛАПКО ~~В~~ ОКОНТОВАТЕЛЬНОЕ

Вопрос 15. (1 балл)

Ответ: г

Вопрос 16. (1 балл)

Ответ: ВОБЛЕРОВА ПОЯСА

Вопрос 17. (1 балл)

Ответ: 4

ШИФР Т-07-05

Вопрос 18. (1 балл)

Ответ: ВЕРНО

Вопрос 19. (1 балл)

Ответ: 10000

Вопрос 20. (1 балл)

Ответ: РЕКТОРНАЯ

21. Кейс- задание (5 баллов)

21.1. (1 балл) ЯБЛОКО

21.2. (2 балла)

В НЕЙ СОДЕРЖАТСЯ ПОЛЕЗНЫЕ СОЛИ, В НЕЙ ФРУКТОЗА, СОДЕРЖИТ
КЛЕТЧАТКУ.

21.3. (2 балла)

КОМПОТ; ДАРЛОТКА; ВАРЕНЬЕ

Подписи членов жюри: преусератель жюри *АА*

Шифр Т-07-06

ВСЕРОССИЙСКАЯ ОЛИМПИАДА ШКОЛЬНИКОВ

ТРУД (ТЕХНОЛОГИЯ) 2024–2025 уч. г.

МУНИЦИПАЛЬНЫЙ ЭТАП

7 класс

Номинация «Культура дома, дизайн и технологии» Практический тур

Внимание! Необходимо выполнить обе практические работы.

Максимальная оценка за обе работы – 35 баллов.

Время выполнения двух заданий практического тура- 180 минут.

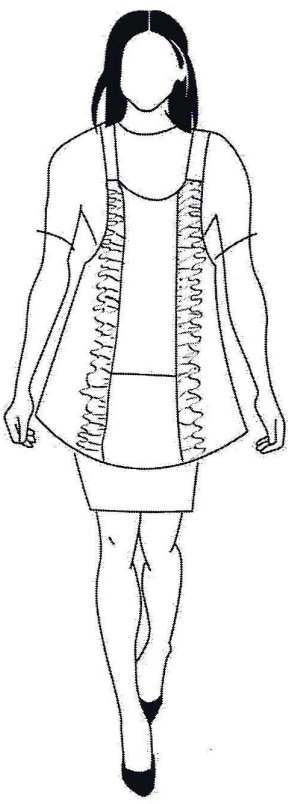
Практическая работа №1

Моделирование фартука

Задание

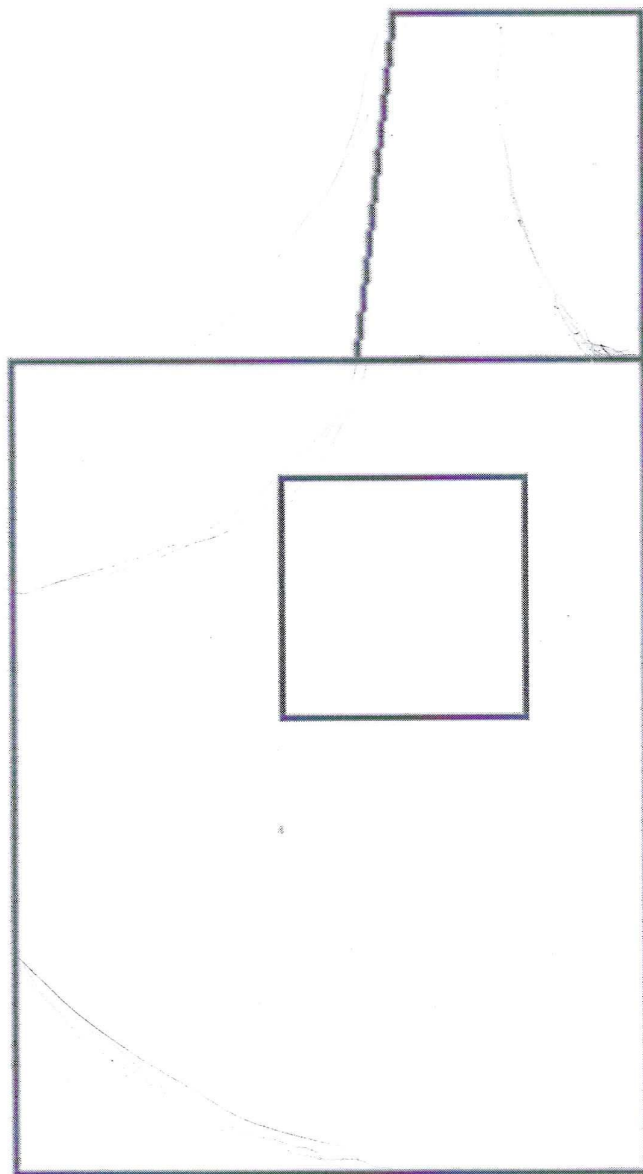
1. Внимательно прочтите описание предложенной модели, рассмотрите эскиз и чертёж основы фартука с нагрудником.
2. Используя лист для вырезания, подготовьте шаблон основы фартука с нагрудником.
3. На бланке ответов (бланк № 1) «Нанесение фасонных линий» подготовьте чертёж основы фартука с нагрудником (обведите шаблон).
4. На обведённом чертеже основы фартука с нагрудником нанесите новые фасонные линии в соответствии с предложенным эскизом.
5. Выполните моделирование: из бумаги изготовьте детали выкройки для раскладки на ткани. Клей не использовать.
6. На бланке ответов (бланк № 2) «Результат моделирования» разложите все детали с учётом сгиба ткани и направления долевой нити. Обведите детали выкройки.
7. Нанесите на детали выкройки надписи, необходимые для раскроя изделия.

Шифр Г-07-05

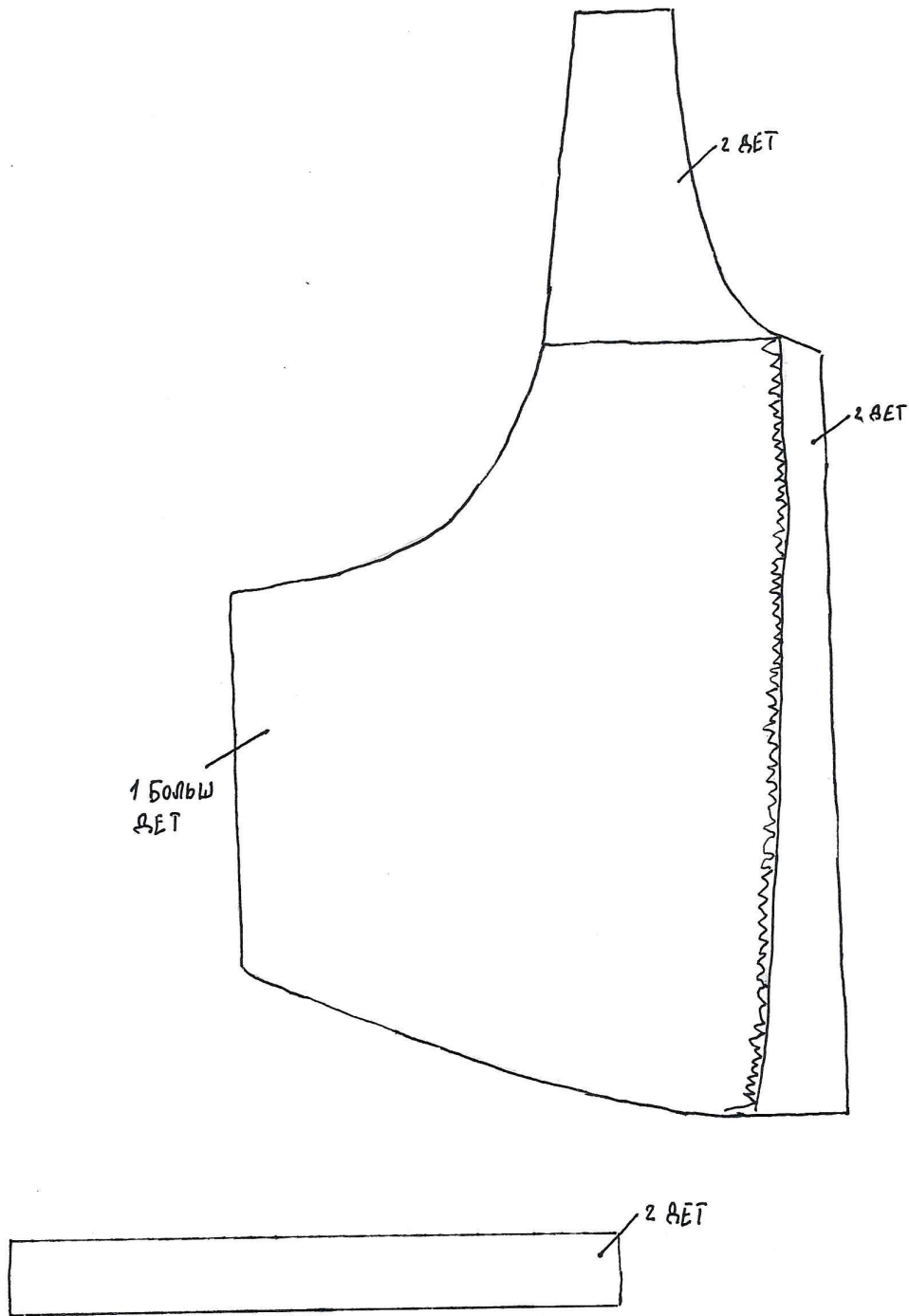
Эскиз модели	Описание внешнего вида модели
	<p>Фартук цельнокроеный на бретелях с двумя рельефными линиями, фигурной линией низа и верха.</p> <p>В рельефных швах располагаются оборки.</p> <p>В нижней части средней детали фартука расположен карман.</p> <p>Фартук завязывается сзади на пояс.</p>

Шифр Г-08-05

Бланк №1
Нанесение фасонных линий



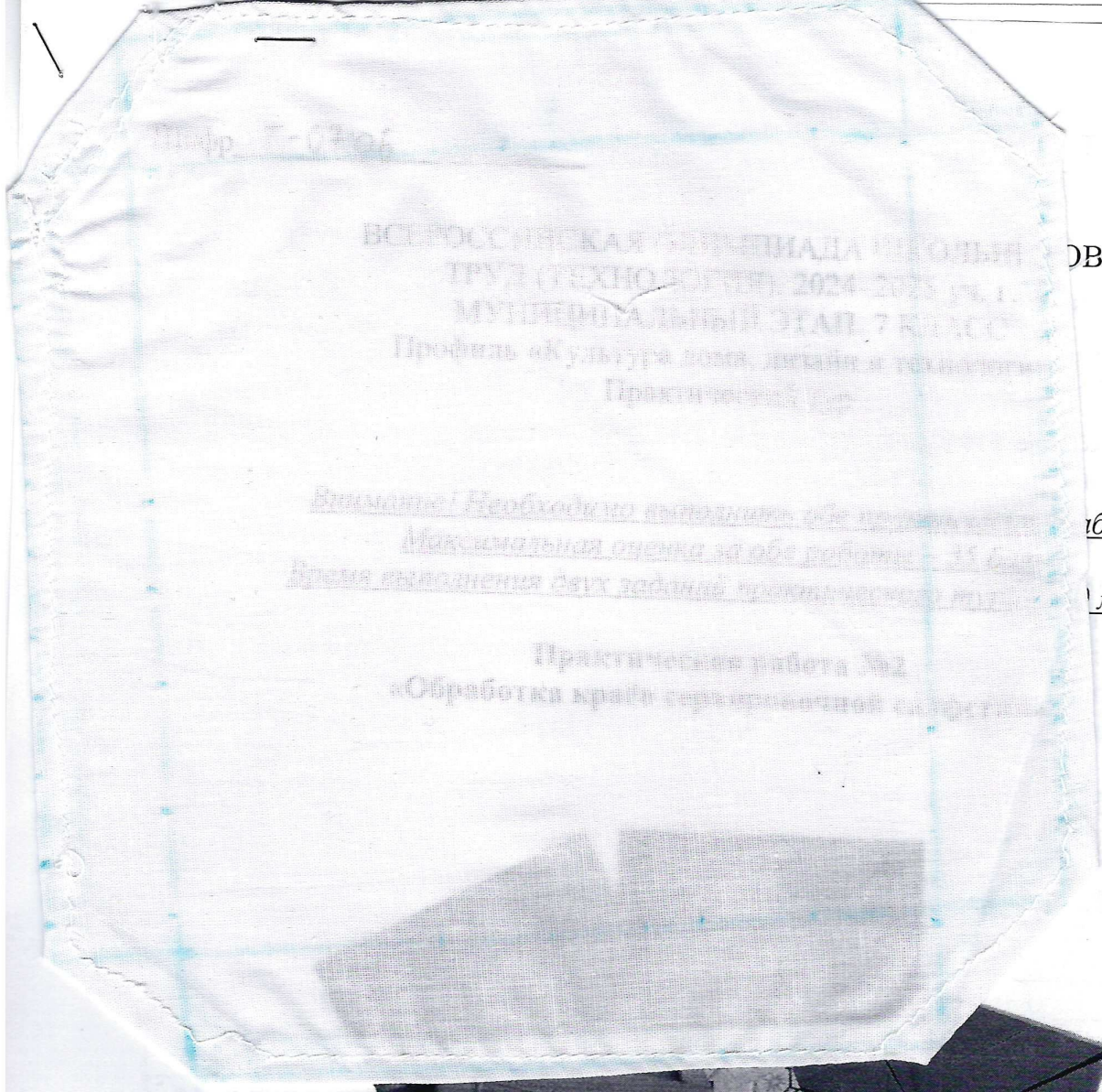
Бланк №2
Результат моделирования



Карта пооперационного контроля

№	Критерии контроля	Баллы	Баллы по факту
I	Нанесение линий фасона на основу чертежа (бланк ответов № 1)	3	
1	Нанесение линии объединения нагрудника и нижней части фартука	0,3	0
2	Наличие на чертеже значка «разрезать»	0,3	0
3	Нанесение линий рельефов	0,3	0
4	Нанесение фигурной линии низа	0,3	0,3
5	Нанесение фигурной линии верха фартука	0,4	0
6	Нанесение линии кармана	0,4	0
7	Построение оборки по линии рельефа	0,5	0
8	Выполнение полного комплекта деталей (средняя часть фартука, боковая часть фартука, карман, пояс, бретель, оборка)	0,5	0
II	Подготовка выкройки к раскрою (бланк ответов № 2)	12	
1	Нанесение деталей выкройки на бланк ответов с соблюдением направления нити основы	0,3	0
2	Наличие надписи названия детали средней части фартука	0,3	0
3	Наличие надписи названия детали боковой части фартука	0,4	0
4	Наличие надписи названия детали кармана	0,3	0
5	Наличие надписи названия детали пояса	0,3	0
6	Наличие надписи названия детали бретели	0,4	0
7	Наличие надписи названия детали оборки по линии рельефа	0,3	0
8	Указание количества деталей средней части фартука	0,3	0
9	Указание количества деталей боковой части фартука	0,4	0
10	Указание количества деталей кармана	0,5	0
11	Указание количества деталей пояса	0,5	0
12	Указание количества деталей бретели	0,5	0
13	Указание количества деталей оборки по линии рельефа	0,5	0
14	Наличие направления нити основы на детали средней части фартука	0,5	0
15	Наличие направления нити основы на детали боковой части фартука	0,5	0
16	Наличие направления нити основы на кармане	0,5	0
17	Наличие направления нити основы на поясе	0,5	0
18	Наличие направления нити основы на бретели	0,5	0
19	Наличие направления нити основы на оборке по линии рельефа	0,5	0
20	Припуски на обработку детали средней части фартука	0,5	0
21	Припуски на обработку детали боковой части фартука	0,5	0
22	Припуски на обработку кармана	0,5	0
23	Припуски на обработку пояса	0,5	0
24	Припуски на обработку бретели	0,5	0
25	Припуски на обработку оборки по линии рельефа	0,5	0
26	Указание линии сгиба на детали средней части фартука	0,5	0
27	Указание линии сгиба на кармане	0,5	0
	Итого	15	0,3

Подписи жюри председатель жюри Филиппов О.В. [подпись]



ОВ


ВСЕРОССИЙСКАЯ ОЛИМПИАДА ШКОЛЬНИКОВ
ТРУД (ТЕХНОЛОГИИ) 2024-2025 УЧ. Г.
МУШТЕРОВАЛЬНЫЙ ЭТАП 7 КЛАСС
Профиль «Культура дома, бытия и творчества»
Практическая работа №2

Внимательно! Необходимо выполнить обе работы.
Максимальная оценка за обе работы 22 балла.
Время выполнения 50 минут.

работы.

минут.

Практическая работа №2
«Обработка краёв сурь-оранжевой салфетки»



Задание

Внимательно прочитайте задание, рассмотрите рисунки и схемы технологической последовательности выполнения работы.
Подготовьте край салфетки к работе, определите лицевую сторону детали.
Выполните работу, следуя технологической последовательности.
Выполните самоконтроль работы.

Шифр Т 07-05

Материалы и инструменты: хлопчатобумажная ткань светлых тонов размером 19 × 19 см, рабочая коробка или папка с инструментами и приспособлениями для швейных работ.

Оборудование и приспособления: швейная машина, утюг, гладильная доска, проутюжильник.

Самоконтроль:

- машинные строчки должны быть ровные и аккуратные, выполненные в соответствии с заданием и требованиями технических условий;
- выполненные операции должны соответствовать заданию;
- должны соблюдаться правила безопасной работы и санитарно-гигиенические требования.

Максимальная оценка: **20 баллов.**

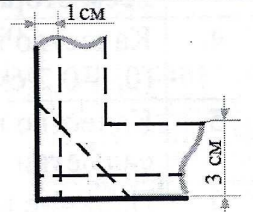
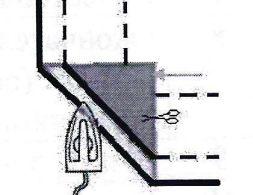
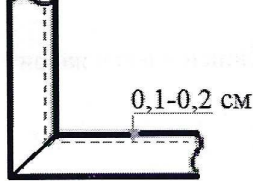
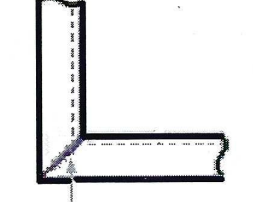
Шифр Т 07 - 05

Карта пооперационного контроля к практической работе
«Обработка краёв сервировочной салфетки»

№ п/п	Контролируемые параметры	Максимальное количество баллов	Баллы по факту
1	Соблюдение правил раскроя	1	1
2	Соответствие выкроенной детали заданным параметрам	1	0
3	Ширина подгиба салфетки одинакова по всем сторонам	1	0
4	Качество выполнения шва застрачивания (0,1–0,2 см от края)	2	0
5	Качество поворотов строчки в углах салфетки	2	0
6	Наличие и качество закрепок (0,5–0,7 см)	2	0
7	Качество потайного шва	2	0
8	Окончательная отделка выполненного образца (обрезка ниток, удаление стежков временного назначения)	2	1
9	Симметричность изделия	2	1
10	Выполненная работа соответствует заданию	2	0
11	Качественно выполненная влажно-тепловая обработка изделия	2	2
12	Соблюдение правил безопасной работы и правильная организация рабочего места	1	1
	Всего	20	6

Подписи членов жюри председатель жюри Зиничева О.В./ЗВ

**Технологическая последовательность выполнения практической работы
«Обработка краёв сервировочной салфетки»**

№ п/п	Последовательность операций	Технические условия Изображение операции
1	Проверьте качество детали края. Определите лицевую и изнаночную стороны. Осноруйте деталь. Деталь должна соответствовать размеру 18 × 18 см	
2	На лицевой стороне разметьте ширину подгиба параллельно срезам детали (см. технический рисунок)	
3	Углы вдоль меловых линий направьте на изнаночную сторону, края сгибов углов приутюжьте. Обрежьте углы на расстоянии 1 см от сгиба (технический рисунок – выделенная часть)	
4	Срезы заутюжьте на изнаночную сторону по намеченным меловым линиям	
5	Заматайте, застрочите на расстоянии 0,1–0,2 см от края. Выполните чёткие повороты строчки в углах салфетки (на игле). В конце строчки поставьте закрепку	
6	В углах салфетки аккуратно соедините сгибы ткани, выполнив потайной шов	
7	Произведите окончательную ВТО с изнаночной стороны выполненной работы	<p>Температура утюга 180 °С * работа с тканями из хлопка и льна</p>